

පැරණි නිර්දේශය/பழைய பாடத்திட்டம்/Old Syllabus

ශ්‍රී ලංකා විභාග දෙපාර්තමේන්තුව ශ්‍රී ලංකා විභාග දෙපාර්තමේන්තුව ශ්‍රී ලංකා විභාග දෙපාර්තමේන්තුව ශ්‍රී ලංකා විභාග දෙපාර්තමේන්තුව ශ්‍රී ලංකා විභාග දෙපාර්තමේන්තුව
 இலங்கைப் பரீட்சைத் திணைக்களம் இலங்கைப் பரීட்சைத் திணைக்களம் இலங்கைப் பரීட்சைத் திணைக்களம் இலங்கைப் பரීட்சைத் திணைக்களம் இலங்கைப் பரීட்சைத் திணைக்களம்
 Department of Examinations, Sri Lanka

OLD

44 S I, II

අධ්‍යයන පොදු සහතික පත්‍ර (සාමාන්‍ය පෙළ) විභාගය, 2017 දෙසැම්බර්
 கல்விப் பொதுத் தராதரப் பத்திர (சாதாரண தர)ப் பரீட்சை, 2017 டிசெம்பர்
 General Certificate of Education (Ord. Level) Examination, December 2017

නැටුම් (දේශීය) I, II
 நடனம் (சுதேச) I, II
 Dancing (Oriental) I, II

පැය තුනයි
 மூன்று மணித்தியாலம்
 Three hours

නැටුම් (දේශීය) I

විශේෂ උපදෙස් :

- * සියලු ම අයදුම්කරුවන් I කොටසේ ප්‍රශ්න 25 ට ම පිළිතුරු සැපයිය යුතු ය. එයට අමතර ව II උඩරට නර්තනය හෝ III පහතරට නර්තනය හෝ IV ඔබරගෙලු නර්තනය යන කොටස් තුනෙන් එක් කොටසකට පමණක් පිළිතුරු සැපයිය යුතු ය.
- * II, III හා IV වන කොටස්වලින් කලවමේ ප්‍රශ්න තෝරා නොගත යුතු ය. ඔබ පිළිතුරු සපයන්නේ කුමන කොටසට දැයි පිළිතුරු පත්‍රයේ පැහැදිලි ව ලියා දැක්විය යුතු ය.

සැලකිය යුතුයි:

- සියලු ම ප්‍රශ්නවලට පිළිතුරු සපයන්න.
- අංක 1 සිට 40 තෙක් ප්‍රශ්නවල, දී ඇති (1), (2), (3), (4) පිළිතුරුවලින් නිවැරදි හෝ වඩාත් ගැළපෙන හෝ පිළිතුරු තෝරා ගන්න.
- ඔබට සැපයෙන පිළිතුරු පත්‍රයේ එක් එක් ප්‍රශ්නය සඳහා දී ඇති කව අතුරෙන්, ඔබ තෝරා ගත් පිළිතුරෙහි අංකයට සැලකෙන කවය තුළ (X) ලකුණ යොදන්න.
- එම පිළිතුරු පත්‍රයේ පිටුපස දී ඇති අනෙක් උපදෙස් ද සැලකිල්ලෙන් කියවා, ඒවා ද පිළිපදින්න.

I කොටස

- අංක 1 සිට 10 තෙක් ප්‍රශ්නවල හිස්තැන්වලට සුදුසු වචන තෝරන්න.
- සරඹ අභ්‍යාස කිරීමේ දී දෙතුණ වශයෙන් හඳුන්වනුයේ ලයට නැටීම ය.
 (1) දෘත (2) මධ්‍ය (3) විලම්භ (4) ජයුත
 - “ඉඳගත්තේම උස පුටුවක ගුවනා” මෙම කවිපද කොටස ගායනයට අයත් වේ.
 (1) මල් යහන් (2) සිරස පාද (3) ඔංචිලිවාරම් (4) ටිකා සිපද
 - ජන නැටුමක් වන නැටුම සිංහල, ද්‍රවිඩ හා මුස්ලිම් ජනයා අතර වඩාත් ජනප්‍රිය නැටුමකි.
 (1) ලී කෙළි (2) කොහොඹ කළය (3) බුම්මැඩි (4) වේවැල්
 - ගායනය රසිත නර්තන අංගයක් ලෙස නම් කළ හැකි ය.
 (1) වන්නම් (2) තාලම් (3) සවුදම් (4) වට්ටම්
 - එක් මුහුණතක් සහිත අතක භාණ්ඩයක් ලෙස හැඳින්විය හැකි ය.
 (1) දඩුල (2) ගැටබෙරය (3) රබාන (4) යක්බෙරය
 - සතර අභිනය අතුරෙන් ඇඳුම් පැලඳුම් සහ අංග රචනය අභිනයට අයත් වේ.
 (1) සාක්චික (2) වාචික (3) ආංගික (4) ආහාර්ය
 - පිළිවෙළින් ශාන්ත, භයානක සහ වීර රසය දැක්වෙන්නේ ඡායාරූපවල ය.



A



B



C

(1) C, A සහ B

(2) A, B සහ C


(3) B, A සහ C

(4) C, B සහ A

/දෙවැනි පිටුව බලන්න.

8. 'සිංහල ගැමි නාටකය' සූරිත්ගේ කෘතියකි.
 (1) ඩබ්ලිව්. ඩී. මකුලොලුව (2) එදිරිවීර සරච්චන්ද්‍ර
 (3) ජේ. ඊ. සේදරමන් (4) සී. ද ඇස්. කුලතිලක
9. "බරත සතර පෙර ඉසිවර කී ලෙසට" යන කවි පදය අයත් වන්නේ සංදේශයට ය.
 (1) සැලලිහිණි (2) පරෙවි (3) කෝකිල (4) සැවුල්
10. 'එදා හෙළදිව' කෘතිය රචනා කරන ලද්දේ නම් ඉංග්‍රීසි ජාතිකයා ය.
 (1) ජෝන් ඩොයිලි (2) ජෝන් කැලවේ (3) රොබට් නොක්ස් (4) ස්පිල්බර්ජන්

11.



මෙම රූපයෙහි දැක්වෙන්නේ

- (1) ඇම්බැක්කේ ලී කැටයම් ය.
 (2) මහනුවර දළදා මාලිගාවේ කැටයම් ය.
 (3) ගලපාත විහාරයේ උළුවස්සේ කැටයම් ය.
 (4) යාපහුවේ පියගැටපෙළ කැටයම් ය.
12. රණකාමීත්වය මතු කෙරෙන ගායනා විශේෂයකි,
 (1) හටන් කවි. (2) කරන්ත කවි. (3) පාරු කවි. (4) කුලු කවි.
13. ප්‍රස්තාරකරණයේ දී නොඇඳෙන මාත්‍රා හඳුන්වනු ලබන්නේ
 (1) ජලුත නමිනි. (2) ගුරු නමිනි. (3) ලඝු නමිනි. (4) දෘත නමිනි.
14. කොහොඹා කංකාරියේ දී දිගින් හැට රියනක් වූ මඩුව පළලින්
 (1) තිස් රියනකි. (2) එක් රියනකි. (3) මිටි රියනකි. (4) සැට රියනකි.
15. කවිකාර මඩුවෙහි, රජුගේ නාභා මණ්ඩලයට වන්නම් රචනා කළ බව කියැවෙන්නේ
 (1) ඇහැළේපොල අදිකාරම් ය. (2) මොල්ලිගොඩ අදිකාරම් ය.
 (3) එක්නැලිගොඩ අදිකාරම් ය. (4) රම්මොලවක අදිකාරම් ය.
16. දේශීය නර්තන සම්ප්‍රදායවලට පොදු වූ චිත්ත භාණ්ඩයක් ලෙස සැලකෙන්නේ
 (1) ගැට බෙරයයි. (2) තම්මැට්ටමයි. (3) රබානයි. (4) යක් බෙරයයි.

● ප්‍රශ්න අංක 17 සහ 18 සඳහා නිවැරදි පිළිතුර පහත වගුව ඇසුරෙන් තෝරන්න.

	1	2	3
A	දේවකෝල් පාඩුව	මුදුන් තාලය	මංගර
B	මල් යහන	පන්දම් පද	කිරි මඩුව
C	දෙවොල් මඩුව	දෙවොල්	කොහොඹා කංකාරිය

17. පහතරට සහ උඩරට ශාන්තිකර්ම දැක්වෙන්නේ
 (1) A පේළියේ 1 හා 2 තීරුවල ය. (2) B පේළියේ 2 හා 3 තීරුවල ය.
 (3) C පේළියේ 2 හා 3 තීරුවල ය. (4) C පේළියේ 1 හා 3 තීරුවල ය.
18. පහත මඩුව ශාන්තිකර්මයේ දක්නට ලැබෙන නර්තන අංග දැක්වෙන්නේ
 (1) B පේළියේ 2 හා 3 තීරුවල ය. (2) A පේළියේ 1 හා 2 තීරුවල ය.
 (3) C පේළියේ 2 හා 3 තීරුවල ය. (4) C පේළියේ 1 හා 2 තීරුවල ය.
19. බලි තොවිල්වල දී රෝගී තැනැත්තා හඳුන්වන්නේ
 (1) ආතුරයා නමිනි. (2) කොට්ටෝරුවා නමිනි.
 (3) අතෝරකරු නමිනි. (4) යක්දෙස්සා නමිනි.
20. නර්තන ශිල්පිනියන් අතර හිස වෙස් තබා ප්‍රසිද්ධියට පත් කාන්තාවක් වන්නේ
 (1) විත්‍රා අල්ගම මහත්මියයි. (2) සීතා ගමගේ මහත්මියයි.
 (3) චන්ද්‍රලේඛා පෙරේරා මහත්මියයි. (4) වජිරා විත්‍රසේන මහත්මියයි.

21. පරයා හා ලොවිනා යන වර්ත පිළිවෙළින්
 (1) කෝලම් සහ සොකර්වලට අයත් වේ. (2) සොකර් සහ කෝලම්වලට අයත් වේ.
 (3) සොකර් සහ නාඩගම්වලට අයත් වේ. (4) නාඩගම් සහ නූර්තිවලට අයත් වේ.
22. භාරතයේ අඩියාර් හි කලා ක්ෂේත්‍ර ආයතනයෙහි උගන්වනු ලබනුයේ දක්ෂිණ භාරතීය
 (1) කථකලි නර්තන සම්ප්‍රදායයි. (2) මණිපුරි නර්තන සම්ප්‍රදායයි.
 (3) කථක නර්තන සම්ප්‍රදායයි. (4) භරත නාට්‍යම් නර්තන සම්ප්‍රදායයි.
23. කථකලි නර්තනයට යොදා ගන්නා වාද්‍ය භාණ්ඩ වනුයේ
 (1) වෙණ්ඩාව, මෘදංගය හා කයිතාලම් ය. (2) වෙණ්ඩාව, මෘදංගය හා නටුවාංගම් ය.
 (3) වෙණ්ඩාව, මද්දලය හා ඉලතාලම් ය. (4) උඩැක්කිය, එඩැක්ක හා ඉලතාලම් ය.
24. බටහිර බැලේ නාට්‍ය ඉතාලියේ ආරම්භ වූ අතර වර්තමානයේ වඩාත් ජනප්‍රියව ඇත්තේ
 (1) ඉන්දියාවේ ය. (2) රුසියාවේ ය.
 (3) ජපානයේ ය. (4) එංගලන්තයේ ය.
25. 19 වන සියවස අග භාගයේ වඩාත් ජනප්‍රිය බැලේ රංගය ලෙස සැලකෙන්නේ
 (1) නටි කුකර් ය. (2) රෝමයේ ජුලියට් ය.
 (3) සින්ඩරෙල්ලා ය. (4) හංසවිල ය.

II කොටස - උඩරට නර්තනය

26. උඩරට නර්තන සම්ප්‍රදායේ වන්නම් ගණන
 (1) 18 කි. (2) 32 කි. (3) 12 කි. (4) 16 කි.
27. කුඳ කුජගත වට්ටමට අදාළ තිත් රූපය වන්නේ
 (1) මාත්‍රා 4 තනිතින ය. (2) මාත්‍රා 2 + 3 දෙතින ය.
 (3) මාත්‍රා 3 තනිතින ය. (4) මාත්‍රා 2 + 4 දෙතින ය.
28. මාත්‍රා 3 + 4 තාලයට අයත් බෙර පදයක් වන්නේ
 (1) දොං ජිං ජිං තකට දොංතක (2) දොං දොං ජිං ජිං ගජගත
 (3) දොං ජි ජිගත (4) දොං තකට තත් ගුඳ ගුඳ
29. කොහොඹා කංකාරියේ එන වාරිත්‍ර විධි දෙකක් ලෙස සැලකෙන්නේ
 (1) කප් සිටුවීම හා යක් ඇනුමයි. (2) තොට පේ කිරීම හා හත්පද පෙළපාලියයි.
 (3) කප් සිටුවීම සහ තොට පේ කිරීමයි. (4) යක් ඇනුම හා අස්තයි.
30. ගැටබෙරයෙහි බෙර ඇසෙහි විෂ්කම්භය
 (1) විශ්ගුස්සකි. (2) විසතකි. (3) රියතකි. (4) මීටිරියතකි.
31. දහවන (10) ගොඩ සරඹයේ නාමය වන්නේ
 (1) පැනීම සරඹයයි. (2) බඹර සරඹයයි.
 (3) වන්දිකා සරඹයයි. (4) ඇල සරඹයයි.
32. සිංහරාජ වන්නම්ට අයත් බෙර පදය වන්නේ
 (1) දොං දොං ජිං ජිං ජිං ගජගත (2) දොං ජිංත ගත දොංත
 (3) දො දොංත තකු දොං (4) දොං ජිං ජිං තකට දොංතක
33. උඩරට අස්ත නර්තනය සඳහා භාවිත කරන රංග භාණ්ඩයක් වනුයේ
 (1) කොතලයයි. (2) පොල්මලයි. (3) බුලත් හුරුල්ලයි. (4) පොල් පන්දමයි.
34. සැවුලා වන්නමේ දෙවන කවි පාදය ආරම්භ වන්නේ
 (1) බර අතගෙන කහින් යනුවෙනි. (2) එම වම් පලුවකින් යනුවෙනි.
 (3) ඇසුරෙන් කළ යුදින් ... යනුවෙනි. (4) සුරිඳුන් පෙර සිටන් යනුවෙනි.
35. කොහොඹා කංකාරිය පුරාවෘත්තයේ එන වර්ත දෙකකි,
 (1) මහා සම්මත රජ හා කුවේණිය. (2) මහා සම්මත රජ හා මැණික්පාල.
 (3) මලය රජ හා කුවේණිය. (4) මලය රජ හා සේරමාන් රජ.
36. කොහොඹා කංකාරියේ පුද ලබන ප්‍රධාන දෙව්වරුන් වන්නේ
 (1) කොහොඹා දෙවි හා දෙවොල් දෙවි ය. (2) කොහොඹා දෙවි හා බණ්ඩාර දෙවි ය.
 (3) වීරමුණ්ඩ දෙවි හා මංගර දෙවි ය. (4) වීරමුණ්ඩ දෙවි හා දෙවොල් දෙවි ය.

37. උඩරට වෙස් ඇඳුම් කට්ටලයට අයත් රංග වස්ත්‍රාභරණ වනුයේ
 (1) හඟල, අවුල්හැරය හා ශිඛාබන්ධනයයි. (2) හඟල, අවුල්හැරය හා රහුකුට්ටමයි.
 (3) ඡේලය, හැට්ටය හා කෙකමෙන්තයි. (4) ඡේලය, හැට්ටය හා හස්තකඩයයි.
38. කුදාංත ගත දොම් වට්ටම නර්තනය කරනු ලබන්නේ
 (1) මාත්‍රා 2 + 2 + 3 කාල රූපයට ය. (2) මාත්‍රා 2 + 3 + 4 කාල රූපයට ය.
 (3) මාත්‍රා 3 + 3 + 4 කාල රූපයට ය. (4) මාත්‍රා 2 + 2 + 4 කාල රූපයට ය.
39. “ජෙත් තත් තත් /// ජෙත් තා ...” යන අඩවිව නටනුයේ
 (1) හනුමා වන්නමට ය. (2) සිංහරාජ වන්නමට ය.
 (3) සැවිලා වන්නමට ය. (4) කුරඟා වන්නමට ය.
40. උඩරට නර්තනයේ දියුණුවට ඇපකැප වූ ප්‍රවීණ නර්තන ශිල්පියෙකි,
 (1) ජේ. ඊ. සේදරමන් මහතා. (2) සිරිබෝහාමි මහතා.
 (3) කේ. ඇස්. ප්‍රනාන්දු මහතා. (4) සවිරිස් සිල්වා මහතා.

III කොටස - පහතරට නර්තනය

26. පහතරට නර්තන සම්ප්‍රදායේ සිංදු වන්නම් ගණන
 (1) 32 කි. (2) 18 කි. (3) 12 කි. (4) 16 කි.
27. තුන් කාලයට අදාළ තිත් රූපය වන්නේ
 (1) මාත්‍රා 2 තනිතින ය. (2) මාත්‍රා 3 තනිතින ය.
 (3) මාත්‍රා 4 තනිතින ය. (4) මාත්‍රා 2 + 3 දෙතින ය.
28. මාත්‍රා 3 + 4 කාලයට අයත් බෙර පදයක් වන්නේ
 (1) ගුංද ගතිගත ගත්ත ගුදි ගුද (2) දෙගත් ගතකු දොම්
 (3) ගුං දෙගත ගත්ත දොං (4) දොං දොංගත ගත් දිත්තකු
29. දෙවොල් මඩුවේ එන වාරිකු විධි ලෙස සැලකෙන්නේ
 (1) මඟුල් බෙර වැයීම හා අඹ විදමනයයි. (2) දෙවොල්ගොඩ බැසීම හා කප් සිටුවීමයි.
 (3) කප් සිටුවීම හා තොටමෙට යාමයි. (4) මිල්ල කැපීම හා මුදුන් කාලයයි.
30. පහතරට බෙර ඇසෙහි විෂ්කම්භය
 (1) තුන්වියත් තුනඟුලකි. (2) එක් වියත් තුනඟුලකි.
 (3) එක් වියත් දෑඟුලකි. (4) තුන්වියත් පසඟුලකි.
31. “ගුහිතිග දිරිකිට ගුද ගුද ගුම් දිත් තා - ගුහිතිග දිරිකිට ගත ගත ගත් දිත් තා” - යනු
 (1) නමවැනි (9) ඉලංගම් සරඹයයි. (2) දහවැනි (10) ඉලංගම් සරඹයයි.
 (3) එකොළොස්වැනි (11) ඉලංගම් සරඹයයි. (4) දොළොස්වැනි (12) ඉලංගම් සරඹයයි.
32. අනුරාගදණ්ඩ කාලය සිංදු වන්නමට අයත් බෙර පදය වන්නේ
 (1) දොම් තම් ගත ගදිතම් ගත ගුගුදම් ගත ගදිතම් (2) ගුද ගතිගත ගුද ගුද ගතිගත
 (3) තක දිත් තක දොං දොං දිං තක දොං (4) දිත් තම් දිත්තකු දොම් දොම් තා
33. පහතරට වඩිග පටුන නර්තනය සඳහා භාවිත කරන රංග භාණ්ඩයක් වනුයේ
 (1) විලක්කුවයි. (2) කලසයි. (3) කඩුවයි. (4) කුඩයයි.
34. හනුමන්තා කාලය සිංදු වන්නමේ දෙවැනි කවි පාදය ආරම්භ වන්නේ
 (1) නෙත රකිනේ පත් කුහුට රොනේ... යනුවෙනි. (2) සතරකිනේ දුක් අතු හෙදියේ ... යනුවෙනි.
 (3) නිතර රනේගත් සිත හොදිනේ... යනුවෙනි. (4) සත තෙදිනේ දෙවරප් සිරිනේ... යනුවෙනි.
35. දෙවොල් මඩු පුරාවෘත්තයේ එන වර්ත දෙකකි,
 (1) මහා සම්මත රජ හා මැණික්පාල. (2) විජය රජ හා කුවේණි.
 (3) සේරමාන් රජ හා පත්තිනි දෙවි. (4) සේරමාන් රජ හා විෂ්ණු දෙවි.
36. දෙවොල් මඩුවේ පුද ලබන ප්‍රධාන දෙව්වරුන් වන්නේ
 (1) මංගර දෙවි හා වාහන දෙවි ය. (2) පත්තිනි දෙවි හා දෙවොල් දෙවි ය.
 (3) දෙවොල් දෙවි හා විරමුණ්ඩ දෙවි ය. (4) දෙවොල් දෙවි හා සමන් දෙවි ය.
37. පහතරට දෙවොල් ඇඳුම් කට්ටලයට අයත් රංග වස්ත්‍රාභරණ වනුයේ
 (1) හැට්ටය, රැළි සාය හා කාඟුල් කුට්ටමයි. (2) හැට්ටය, රැළි සාය හා වෙස් මුහුණයි.
 (3) ඡේලය, පච්චඩම හා කෙකමෙන්තයි. (4) ඡේලය, පච්චඩම හා හස්තකඩයයි.

38. නාතිලිංචි තාලය නර්තනය කරනු ලබන්නේ
 (1) මාත්‍රා 3 + 4 තාල රූපයට ය. (2) මාත්‍රා 2 + 3 තාල රූපයට ය.
 (3) මාත්‍රා 2 + 2 + 3 තාල රූපයට ය. (4) මාත්‍රා 2 + 4 තාල රූපයට ය.
39. “දොම් තත් දිම් ගත” යන ඉරට්ටිය නටනුයේ
 (1) ලලිතරාග තාලය සිංදු වන්නමට ය. (2) ඉද්ධ තාලය සිංදු වන්නමට ය.
 (3) නාතිලිංචි තාලය සිංදු වන්නමට ය. (4) අනුරාගදණ්ඩ තාලය සිංදු වන්නමට ය.
40. පහතරට නර්තනයේ දියුණුවට ඇපකැප වූ ප්‍රවීණ නර්තන ශිල්පියෙකි,
 (1) කේ. ඇස්. ප්‍රනාන්දු මහතා. (2) සිරිබෝහාමි මහතා.
 (3) ජේ. ඊ. සේදරමන් මහතා. (4) ඒ. ඉබ්බල්ගොඩ මහතා.

IV කොටස - සබරගමු නර්තනය

26. සබරගමු නර්තන සම්ප්‍රදායේ වන්නම් ගණන
 (1) 18 කි. (2) 32 කි. (3) 12 කි. (4) 16 කි.
27. යක් පද මාත්‍රයට අදාළ තිත් රූපය වන්නේ
 (1) මාත්‍රා 2 තනිතින ය. (2) මාත්‍රා 3 තනිතින ය.
 (3) මාත්‍රා 4 තනිතින ය. (4) මාත්‍රා 2 + 3 දෙතින ය.
28. මාත්‍රා 3 + 4 තාලයට අයත් දවුල් පදයක් වන්නේ
 (1) ජිංත තක්කිට තකිට ජිංතක (2) ජිං ජිමිත තත් තකිට
 (3) ජිං ජිමිතක තත් කිටිතක (4) ජිංත ජිමිතත් තක්කිට කිටිතක
29. පහත් මඩුවේ එන වාරිතුව විධි ලෙස සැලකෙන්නේ
 (1) මඟුල් බෙර වැසීම හා අඹ විදමනයි. (2) දෙවොල්ගොඩ බැසීම හා කප් සිටුවීමයි.
 (3) කප් සිටුවීම හා මලපේ කිරීමයි. (4) මිල්ල කැපීම හා මුදුන් තාලයයි.
30. දවුල් කදෙහි දිග ප්‍රමාණය වන්නේ
 (1) පසළොස් අඟුලකි. (2) විසි අඟුලකි.
 (3) සුවිසි අඟුලකි. (4) සොළොස් අඟුලකි.
31. කිත් තා කිත් තා ජෙජ් ජං තා - තක්කඩ තරිකිට// ජෙජ් ජං තා යනු
 (1) නමවැනි (9) දොඹින පදයයි. (2) දහවැනි (10) දොඹින පදයයි.
 (3) එකොළොස්වැනි (11) දොඹින පදයයි. (4) දොළොස්වැනි (12) දොඹින පදයයි.
32. විරාඩ් වන්නමට අයත් දවුල් පදය වන්නේ
 (1) කුඳත් තක්කිට තකිට ජිංතක (2) ජිං කිටිතත් තත් කිටිතක
 (3) ජිමිත කුදා දොං (4) දොංත තකිට
33. සබරගමු පහත් මඩුව දෙවොල් ගොඩබැසීම නර්තනය සඳහා යොදාගනු ලබන රංග භාණ්ඩයක් වනුයේ
 (1) පොල්මල ය. (2) බුලත් හුරුල්ල ය. (3) අඟුරුකබල ය. (4) අත් පන්දම් ය.
34. සබරගමු සැව්ලා වන්නමේ පළමු කවි පාදය ආරම්භ වන්නේ
 (1) සන්සුන් ලෙස උතුම්.... යනුවෙනි. (2) ගම්හිර ලත් තාලෙට... යනුවෙනි.
 (3) පාතා යසසින් පිරි පිරි යනුවෙනි. (4) කොහොච් යතා හඩ යනුවෙනි.
35. පහත් මඩුව පුරාවෘත්තයේ එන වර්ත දෙකකි,
 (1) මහා සම්මත රජ හා මැණික්පාල. (2) විජය රජ හා කුවේණි.
 (3) සේරමාන් රජ හා පත්තිනි දෙවි. (4) සේරමාන් රජ හා විෂ්ණු දෙවි.
36. පහත් මඩුවේ පුද ලබන ප්‍රධාන දෙව්වරුන් වන්නේ
 (1) පත්තිනි දෙවි හා වාහල දෙවි ය. (2) පත්තිනි දෙවි හා දෙවොල් දෙවි ය.
 (3) දෙවොල් දෙවි හා විරමුණ්ඩ දෙවි ය. (4) දෙවොල් දෙවි හා කොහොඬා දෙවි ය.
37. සබරගමු දෙවොල් ඇඳුම් කට්ටලයට අයත් රංග වස්ත්‍රාභරණ වනුයේ
 (1) හේලය, හැට්ටය හා කාඟුල් ය. (2) හේලය, හැට්ටය හා වෙස් මුහුණ ය.
 (3) හඟල, හැට්ටය හා කෙකමෙත්ත ය. (4) හඟල, අවුල්හැරය හා හස්තකඩය ය.

38. පට්ටුකාල මාත්‍රය නර්තනය කරනු ලබන්නේ

- (1) මාත්‍ර 2 + 3 + 4 කාල රූපයට ය.
(3) මාත්‍ර 2 + 3 + 3 කාල රූපයට ය.

- (2) මාත්‍ර 3 + 3 + 4 කාල රූපයට ය.
(4) මාත්‍ර 3 + 2 + 2 කාල රූපයට ය.

39. “තහර් රුදගත් ගත ගුදගත්” යන අඩවිව නටනුයේ

- (1) අනිලා වන්නමට ය.
(3) සැවුලා වන්නමට ය.

- (2) විරාඩි වන්නමට ය.
(4) මණ්ඩුක වන්නමට ය.



40. සබරගමු නර්තනයේ දියුණුවට ඇපකැප වූ ප්‍රවීණ නර්තන ශිල්පියෙකි,

- (1) ඩී. ඩී. හිත්තිලමේ මහතා.
(3) සවිඊස් සිල්වා මහතා.

- (2) කේ. ඇස්. ප්‍රනාන්දු මහතා.
(4) ජී. රංගනාත මහතා.

* *

පැරණි නිර්දේශ/பழைய பாடத்திட்டம் / Old Syllabus

ශ්‍රී ලංකා විභාග දෙපාර්තමේන්තුව ශ්‍රී ලංකා විභාග දෙපාර්තමේන්තුව ශ්‍රී ලංකා විභාග දෙපාර්තමේන්තුව ශ්‍රී ලංකා විභාග දෙපාර්තමේන්තුව ශ්‍රී ලංකා විභාග දෙපාර්තමේන්තුව
 இலங்கைப் பரீட்சைத் திணைக்களம் இலங்கைப் பரීட்சைத் திணைக்களம் இலங்கைப் பரීட்சைத் திணைக்களம் இலங்கைப் பரීட்சைத் திணைக்களம் இலங்கைப் பரීட்சைத் திணைக்களம்
 Department of Examinations, Sri Lanka Department of Examinations, Sri Lanka Department of Examinations, Sri Lanka Department of Examinations, Sri Lanka Department of Examinations, Sri Lanka

අධ්‍යයන පොදු සහතික පත්‍ර (සාමාන්‍ය පෙළ) විභාගය, 2017 දෙසැම්බර්
 கல்விப் பொதுத் தராதரப் பத்திர (சாதாரண தர)ப் பரீட்சை, 2017 டிசெம்பர்
 General Certificate of Education (Ord. Level) Examination, December 2017

නැටුම් (දේශීය) I, II
 நடனம் (சுதேச) I, II
 Dancing (Oriental) I, II

නැටුම් (දේශීය) II

* පළමුවැනි ප්‍රශ්නය අනිවාර්ය වේ.

* පළමුවැනි ප්‍රශ්නය හා තවත් ප්‍රශ්න හතරක් ඇතුළු ව ප්‍රශ්න පහකට පිළිතුරු සපයන්න.

1. සියලු ම ප්‍රශ්නවලට සුදුසු පිළිතුරු මඟින් පිළිතුරු පත්‍රයේ අදාළ ප්‍රශ්න අංකය යොදා ඉදිරියෙන් ලියන්න.

- 'සැලළිහිණිය' ඉඟි නළුව නිෂ්පාදනය කරන ලද්දේ විසිනි.
- "ලකල පුළුලුල බැඳි මිණි මෙවුල්ලා" මෙය..... සංදේශ කාව්‍යයට අයත් කවි පදයකි.
- සොකරි නාටකයේ ගේ මෙහෙකරුවා පව්වමීරා නමින් හඳුන්වනු ලැබේ.
- 'සිංහල නර්තන කලාව' කෘතිය රචනා කර ඇත්තේ මහාචාර්ය විසිනි.
- ගොයම් කැපීමේ ගැමි නර්තනය සඳහා යොදා ගන්නා මැටියෙන් කරන ලද වාද්‍ය භාණ්ඩය නමින් හැඳින්වේ.
- සිරුරේ කොටස් වන අංග, ප්‍රත්‍යංග, උපාංග මගින් අදහස් දැක්වීම අභිනය ලෙස හැඳින්වේ.
- කපක් නර්තනය සඳහා භාවිත කරන සංගීත සම්ප්‍රදාය නමින් හැඳින්වේ.
- 'තු තු' නමින් හඳුන්වන සාය භාවිත කරනුයේ නර්තන කලාවට ය.
- හරන නාට්‍යම් සහ කප්කලි නර්තනය සඳහා යොදා ගනු ලබන ප්‍රධාන අවනද්ධ භාණ්ඩ සඳහන් කරන්න.
 - හරන නාට්‍යම් -
 - කප්කලි -
- පහත සඳහන් නාට්‍යමය අවස්ථා දක්නට ලැබෙන ශාන්තිකර්ම දෙක නම් කරන්න.
 - යක්කම් පහ -
 - පොක්කඩේ පාළිය -

- මාත්‍රා 2 + 3 දෙකිනට අයත් බෙර පදයක් ප්‍රස්තාරගත කරන්න.
 - මාත්‍රා 4 තනිකිනට අයත් රබන් පදයක් ප්‍රස්තාරගත කරන්න.
 - මාත්‍රා 2 + 2 + 4 තුනකිනට අයත් කස්තිරමක් හෝ ඉරට්ටියක් හෝ කලාසමක් හෝ ප්‍රස්තාරගත කරන්න.

3. පහත සඳහන් මාතෘකා අතුරෙන් තුනක් කෙටියෙන් විස්තර කරන්න.


- ගැමි නැටුම්
- රසභාව සංකල්පය
- වන්නම්වල පොදු ලක්ෂණ
- මණිපුරි නර්තනයේ රංග වස්ත්‍රාභරණ
- ත්‍රිවිධ ලය

4. කොහොඹා කංකාරිය, දෙවොල් මඩුව සහ පහන් මඩුව යන ශාන්තිකර්මවල සමාන මෙන් ම අසමාන ලක්ෂණ ද වේ.
- කොහොඹා කංකාරියේ එන ගායනා රහිත ශාස්ත්‍රීය නර්තන අංග දෙකක් හඳුන්වන්න.
 - දෙවොල් මඩුවේ හා පහන් මඩුවේ එන නාට්‍යමය පෙළපාළිවල සමානතා හා අසමානතා වගුගත කරන්න.
 - ඉහත ශාන්තිකර්ම අයත් නර්තන සම්ප්‍රදායයන් දෙකක වාද්‍ය භාණ්ඩවල ව්‍යුහයේ සමානතා හා අසමානතා විමසුමට ලක් කරන්න.

5. පහත රූපරාමු ඇසුරෙන් අසා ඇති ප්‍රශ්නවලට පිළිතුරු සපයන්න.



A



B

- A හා B ජන නාටක දෙක නම් කර, එක් ජන නාටකයක එන කවියක් ලියා දක්වන්න.
 - A රූපයෙන් දැක්වෙන නාටකයේ එන චරිත හතරක් නම් කරන්න.
 - B රූපයෙන් දැක්වෙන නාටකයේ රඟ මඩල පිළිබඳ විස්තරයක් කරන්න.
6. 'නර්තනය' බොහෝ කලාවන්ගෙන් සම්මිශ්‍රණය වී පරිපූර්ණ වූවකි.
- චිත්‍ර කලාවෙන් නර්තනයට ඇති ප්‍රතිලාභ කෙටියෙන් විස්තර කරන්න.
 - 'නර්තනයක' සාර්ථකත්වය උදෙසා සංගීතයෙන් ලැබෙන සහාය අගයන්න.
 - නාට්‍ය කලාවේ භාවාත්මක ප්‍රකාශනය සඳහා නර්තනය යොදා ගෙන ඇති ආකාරය විමසුමට ලක් කරන්න.
7. පහත රූපරාමු ඇසුරෙන් අසා ඇති ප්‍රශ්නවලට පිළිතුරු සපයන්න.



A



B



C

- A රූපයේ දැක්වෙන නර්තන සම්ප්‍රදායට සුවිශේෂී වන වේෂ නිරූපණ ක්‍රම පිළිබඳ හැඳින්වීමක් කරන්න.
- B රූපයේ දැක්වෙන නර්තන සම්ප්‍රදායට අයත් නර්තනාංග දෙකක් නම් කර, වාද්‍ය භාණ්ඩයක් පිළිබඳ කෙටි විස්තරයක් කරන්න.
- C රූපයේ දැක්වෙන නර්තන කලාවේ විකාශනය පිළිබඳ විමසීමක් කරන්න.
