



மாணவர்களைப் பாடசாலைக்குத் தேர்ந்தெடுப்பதற்கும் மாணவர்களுக்கு உதவிப்பணம் வழங்குவதற்குமாகத் தரம் ஐந்து மாணவர்களுக்கு நடைத்தப்படும் பரீட்சைக்கான வழிகாட்டல்.

வினாத்தாள் - I

4

45 நிமிடம்

சுட்டெண்

பரீட்சைக்குத் தோற்றும் உங்களுக்கான அறிவுறுத்தல்கள்.

- ★ உங்கள் சுட்டெண்ணை மேற்குறித்த அடைப்பினுள் இருக்கும் புள்ளிக்கோட்டின் மீது எழுதுங்கள்.
- ★ மூன்றாம் பக்கத்தில் குறித்த இடத்திலும், உங்கள் சுட்டெண்ணை எழுதுக.
- ★ இவ்வினாத்தாளில் 40 வினாக்கள் உள்ளன. எல்லா வினாக்களுக்கும் உரிய விடைகளை இவ்வினாத்தாளிலேயே தருக.
- ★ 1 தொடக்கம் 40 வரையுள்ள வினாக்கள் ஒவ்வொன்றுக்கும் கீழே தரப்பட்டுள்ள மூன்று விடைகளிருந்து சரியான விடையைத் தெரிவு செய்து அதன் கீழ்க் கோடுக.

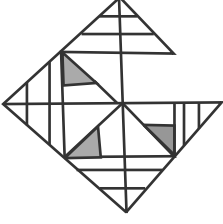
விடைத்தாள் பரீட்சகர்களுக்கு மாத்திரம்

பக்க இலக்கம்	பெற்ற சரியான வினாக்களின் எண்ணிக்கை
02	
03	
04	
05	
06	
மொத்தம்	
இறுதிப்புள்ளிகள்	
<input type="text"/> × 2½ = <input type="text"/>	புள்ளிகள்
எழுத்தில்	

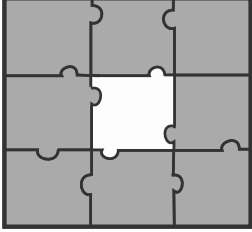
	பெயரும் ஒப்பமும்
முதலாவது பரீட்சகர் (வகுப்பாசிரியர்) புள்ளி வழங்கும் திட்டத்திற்கேற்ப விடைத்தாள் மதிப்பிடப்பட்டுள்ளது என உறுதிப்படுத்துகின்றேன். பெயர் ஒப்பம்
இரண்டாவது பரீட்சகர் (.....) முதலாவது பரீட்சகரின் மதிப்பீடு சரியென உறுதிப்படுத்துகின்றேன். பெயர் ஒப்பம்
மதிப்பீட்டுப் புள்ளிகளை உறுதிப்படுத்தும் பரீட்சகர் மதிப்பீட்டு வழங்கிய புள்ளிகளும் இறுதிப் புள்ளிகளும் சரியென உறுதிப்படுத்துகின்றேன். பெயர் ஒப்பம்
அதிபர் மேற்பார்வை செய்தேன்.	
வலய / மாகாண மேற்பார்வையாளர்	

- 1, 2 ஆகிய வினாக்களில் தொடக்கத்தில் தரப்பட்டுள்ள உருவைப் பூரணப்படுத்துவதற்குப் பொருத்தமான பகுதியைத் தெரிவு செய்க.

01.



02.



- 3, 4 ஆகிய வினாக்களில் ஓர் உருத்தொகுதி ஏனைய உருக்களிலிருந்தும் வேறுபடுகின்றது. வேறுபடும் உருத்தொகுதியைத் தெரிவு செய்க.


03.



1)



2)



3)


04.



1)



2)



3)

- 5, 6 ஆகிய வினாக்களில் தரப்பட்டவற்றுள் முன்றை ஒரு கூட்டமாகவும் இரண்டை வேறு கூட்டமாகவும் வேறுபடுத்தலாம். அவ்விரு கூட்டங்களையும் சேராதது எது எனத் தெரிவு செய்க.

05. சதுரம், கனவுரு, சதுரமுகி, செவ்வகம், நான்முகி, பெட்டி

1) பெட்டி

2) நான்முகி

3) சதுரம்

06. சாகரம், நீர், பரவை, புள், கடல், பட்சி

1) புள்

2) நீர்

3) கடல்

- தரப்பட்ட பாடலை வாசித்து சரியான விடையினைத் தெரிவு செய்க.

இரந்துண்டு வாழும் வாழ்வை

இன்றோடு விட்டொதுக்க

கரமுண்டு கலப்பையுண்டு

கடிதெழு களைவிட்டு

07. இப் பாடலில் விளக்குவது

1) உற்பத்தி செய்தல்

2) வியாபாரம் செய்தல்

3) விவசாயம் செய்தல்

17. ஒரு பெட்டியில் 19 மாம்பழங்கள் உண்டு. அவற்றில் இருந்து நீர் 11 மாம்பழங்களை எடுத்துக் கொண்டால் உம்மிடம் காணப்படும் மாம்பழங்களின் எண்ணிக்கையை உரோம எண்குறியில் எழுதினால்

1) xi

2) viii

3) x

18.



பின்வரும் உருக்கோலத்தில் அருகருகே ஒரே நிறம் அமையாதவாறு நிறம் தீட்டப்பட வேண்டும். அவ்வாறு நிறம் தீட்டுவதற்குத் தேவையான நிறங்களின் ஆகக் குறைந்த எண்ணிக்கை

1) 6

2) 3

3) 4

19. “வறுமையிலும் செம்மையாக வாழ வேண்டும்” என்ற கருத்தை ஏற்கும் பழமொழியாக இருக்கக் கூடியது

1) பசி வந்தால் பத்தும் பறக்கும்

2) நோயற்ற வாழ்வே குறைவற்ற செல்வம்

3) இரக்கப் போனாலும் சிறக்கப் போ

20. இன்னும் ஐந்தாண்டுகளில் இலங்கை சுதந்திர தினத்தை பவளவிழாவாகக் கொண்டாட இருக்கிறது எனினும் பொன்விழாவை எப்போது கொண்டாடியது

1) 1964

2) 2008

3) 1992

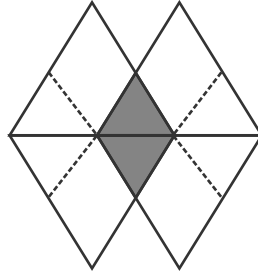
21. 21ம் நூற்றாண்டின் 7 ஆம் தசாப்தத்தில் உள்ள ஆண்டாக அமைவது

1) 1964

2) 2067

3) 2076

✦ பின்வரும் உருவைக் கவனித்து 22, 23ம் வினாக்களிற்கு விடை தருக.



22. நிழற்றிய பகுதியின் பரப்பளவை போல் முழு உரு எத்தனை மடங்கு?

1) 14 மடங்கு

2) 5 மடங்கு

3) 7 மடங்கு

23. நிழற்றிய பகுதியின் சுற்றளவைப் போல் முழு உரு எத்தனை மடங்கு?

1) 3 மடங்கு

2) 12 மடங்கு

3) 6 மடங்கு

24. தனது பாடநூல் ஒன்றினைப் பார்க்கும் போது அங்கு கமல் எனும் மாணவன் முறையே 18, 19, 24, 25, 69, 70 பக்கங்களினை காண முடியவில்லை. புத்தகத்தில் கிழிக்கப்பட்ட கடதாசித் தாள்கள் எத்தனை?

1) 4

2) 5

3) 6

25. ஒரு புத்தகத்திற்கு எப்போதும் இருப்பது

1) பாடங்கள்

2) படங்கள்

3) பக்கங்கள்

மாகாணக் கல்வித் திணைக்களம் - வடமாகாணம்
பயிற்சிப் பரீட்சை 04 இன் விடைகள்

தரம் - 05

4

வினாத்தாள் - I

- | | |
|-------|-------|
| 1. 2 | 21. 2 |
| 2. 3 | 22. 3 |
| 3. 3 | 23. 1 |
| 4. 2 | 24. 2 |
| 5. 1 | 25. 3 |
| 6. 2 | 26. 3 |
| 7. 3 | 27. 2 |
| 8. 1 | 28. 1 |
| 9. 2 | 29. 1 |
| 10. 2 | 30. 2 |
| 11. 2 | 31. 1 |
| 12. 3 | 32. 2 |
| 13. 2 | 33. 3 |
| 14. 1 | 34. 1 |
| 15. 2 | 35. 3 |
| 16. 1 | 36. 3 |
| 17. 1 | 37. 3 |
| 18. 2 | 38. 1 |
| 19. 3 | 39. 2 |
| 20. 1 | 40. 2 |