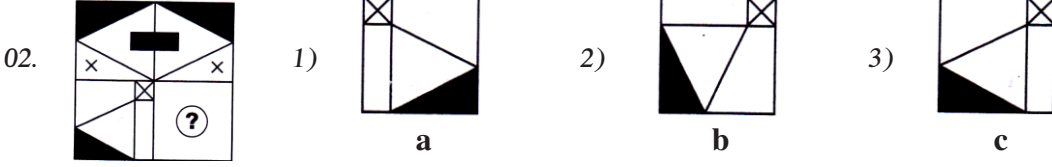
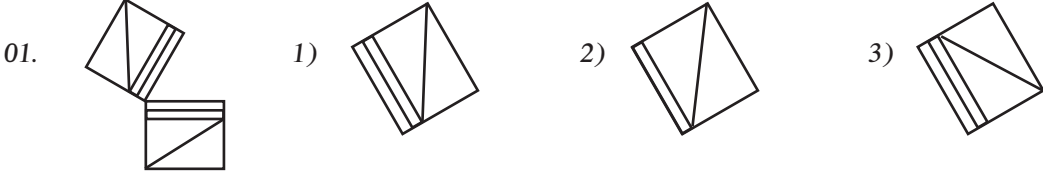
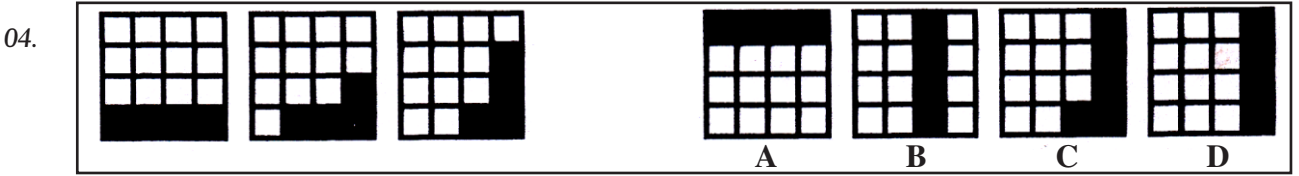
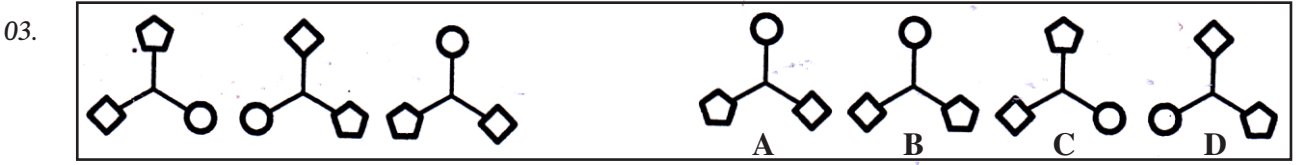




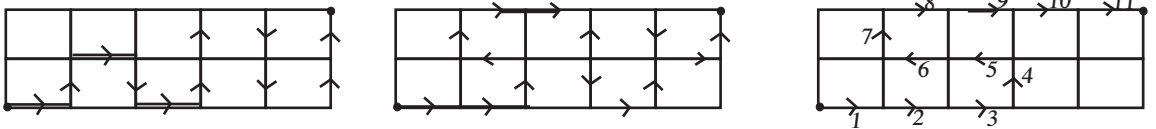
❖ 01 ஆம், 02 ஆம் வினாக்களுக்கு தொடக்கத்தில் தரப்பட்டுள்ள உருவைப் பூரணப்படுத்துவதற்குப் பொருத்தமான பகுதியைத் தெரிவு செய்க.



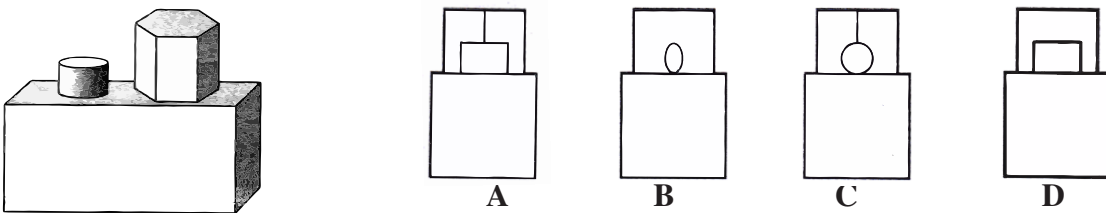
❖ 03 ஆம் 04 ஆம் வினாக்களில் கோலத்திற்கு ஏற்ப வெற்றிடத்தில் இருக்க வேண்டிய உருவைத் தெரிவு செய்க.



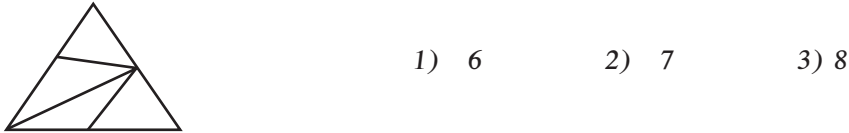
05. அம்புக்குறிகளின் மூலம் காட்டப்படும் பாதைகள் வழியே A யில் இருந்து B வரைக்கும் செல்வதற்கு மிகக் குறுகிய பாதையைக் காட்டும் உரு யாது?



06. தரப்பட்ட திண்ம உருத்தொகுதியை  $\rightarrow$  அம்புக்குறி காட்டும் திசைவழியே இருந்து பார்க்கும் போது எவ்வாறு தோன்றும்?



07. இவ்வருவில் அவதானிக்கக் கூடிய முக்கோணிகளின் எண்ணிக்கை யாது?




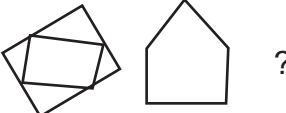
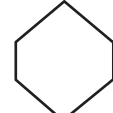

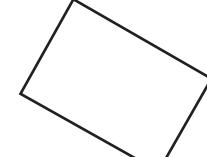
❖ 08 ஆம் 09 ஆம் வினாக்களில் கோலத்திற்கு ஏற்ப வெற்றிடத்திற்குப் பொருத்தமான விடையைத் தெரிவு செய்க.



09. PQRS, QRSP, RSPQ  
1) SPRQ 2) SQPR 3) SPQR





26. இலங்கையின் மத்திய, தென்மாகாணங்களில் மண்சரிவு வெள்ளப்பெருக்கு காரணமாக அதிகளவு உயிரிழப்புக்கள் ஏற்பட்டன என பத்திரிகைச் செய்தி கூறுகின்றது. அதற்கேற்ப அதிகளவு உயிரிழப்புக்கள் ஏற்பட்ட நகரங்களாக அமையக்கூடிய விடையைத் தெரிவு செய்க.  
1) அனுராதபுரம், கொழும்பு 2) மாத்தளை, காலி 3) கண்டி, களுத்துறை
27. ஒரு மாதத்தின் பத்தாம் நாள் திங்கட்கிழமைக்கு முந்திய நாள் வருகிறது. அம்மாதத்தின் முதலாம் முப்பதாம் நாட்கள் முறையே என்ன கிழமைகளில் வரும்?  
1) ஞாயிற்றுக்கிழமை, வெள்ளிக்கிழமை  
2) சனிக்கிழமை, திங்கட்கிழமை  
3) வெள்ளிக்கிழமை, சனிக்கிழமை
28. கண்ணனிடம் பேனாவும், கடதாசியும், பென்சிலும், பந்தும் இருந்தன விமலனிடம் பேனாவும், கடதாசியும், பந்தும், புத்தகமும் இருந்தன. திலீபனிடம் பேனாவும், முத்திரையும், பென்சிலும், கடதாசியும் இருந்தன. தேவாவிடம் புத்தகமும், பென்சிலும், பேனாவும் முத்திரையும் இருந்தன. நால்வரிடமும் இருந்த பொதுவான பொருள் என்ன?  
1) பேனா 2) கடதாசி 3) பென்சில்
29.   
  
வெற்றிடத்தில் வரவேண்டிய உருவத்தை தெரிவு செய்க.  
1)  2)  3) 
30. பின்வரும் பந்தியை வாசிக்க  
தேயிலை ஆயிரத்து எண்ணூற்று அறுபத்தேழாம் ஆண்டு ஆங்கிலேயரால் நமது நாட்டுக்கு அறிமுகம் செய்யப்பட்டது. நமது நாட்டுக்கு தேயிலை  $\triangle A$  மூலம் அதிகளவு வருமானம் நமதுகிடைக்கின்றது. இதற்காகத் தேயிலைத் தோட்டங்களில் பெருமளவிலான ஆண்களும் பெண்களும்  $\triangle B$  உழைக்கின்றார்கள். பந்தியில் A, B ஆகிய இடங்களுக்கு மிகவும் பொருத்தமான சொற்கள் முறையே இடம்பெறும் விடையைத் தெரிவு செய்க.  
1) பயிரிடுவதன், சிரமப்பட்டு 2) ஏற்றுமதி, கடினமாக 3) இறக்குமதி, இலகுவாக
31. மரக்கிளை ஒன்றில் ஒரு குறித்த தொகையான ஆரோக்கியமான கிளிகள் நின்றன. அவற்றில் தலைகளினதும் கால்களினதும் மெத்த எண்ணிக்கை 57 எனின் அந்த மரக்கிளையில் நின்ற கிளிகள் எத்தனை?  
1) 16 2) 18 3) 19
32. ஒரு வேலையைச் செய்து முடிக்க 5 வேலையாட்களுக்கு 21 நாட்கள் தேவைப்படும். அதே வேலையை 7 பேர் செய்து முடிக்க எத்தனை நாட்கள் தேவைப்படும்?  
1) 15 2) 17 3) 1
33. ஒரு பாடசாலையின் விளையாட்டுப் போட்டியின் போது பச்சை, நீலம், சிவப்பு, மஞ்சள் ஆகிய நான்கு இல்லங்களுக்குச் சொந்தமாக கூடாரங்கள் அமைக்கப்பட்டன. பச்சை இல்லத்திற்கு தென்மேற்குப் பக்கமாக 100m தூரத்தில் சிவப்பு இல்லம் அமைந்திருந்தது. சிவப்பு இல்லத்திற்கு வடமேற்கே 80m தூரத்தில் மஞ்சள் இல்லம் அமைந்திருந்தது. மஞ்சள் இல்லத்திற்கு வடகிழக்கே 100m தூரத்தில் நீல இல்லம் அமைந்திருந்தது. நீல இல்லத்திலிருந்து எத்திசையில் பச்சை இல்லம் அமைந்திருந்தது?  
1) தென்மேற்கு 2) வடகிழக்கு 3) தென்கிழக்கு



**மாகாணக் கல்வித் திணைக்களம் - வடமாகாணம்**  
**பயிற்சிப் பரீட்சை 06 இன் விடைகள்**

தரம் - 05 **6**

வினாத்தாள் - I

- |       |       |
|-------|-------|
| 1. 2  | 21. 2 |
| 2. 3  | 22. 2 |
| 3. 2  | 23. 3 |
| 4. 2  | 24. 2 |
| 5. 1  | 25. 3 |
| 6. 1  | 26. 3 |
| 7. 1  | 27. 1 |
| 8. 2  | 28. 2 |
| 9. 3  | 29. 3 |
| 10. 2 | 30. 2 |
| 11. 3 | 31. 1 |
| 12. 3 | 32. 2 |
| 13. 1 | 33. 1 |
| 14. 2 | 34. 1 |
| 15. 2 | 35. 3 |
| 16. 1 | 36. 2 |
| 17. 3 | 37. 3 |
| 18. 1 | 38. 3 |
| 19. 1 | 39. 2 |
| 20. 3 | 40. 2 |