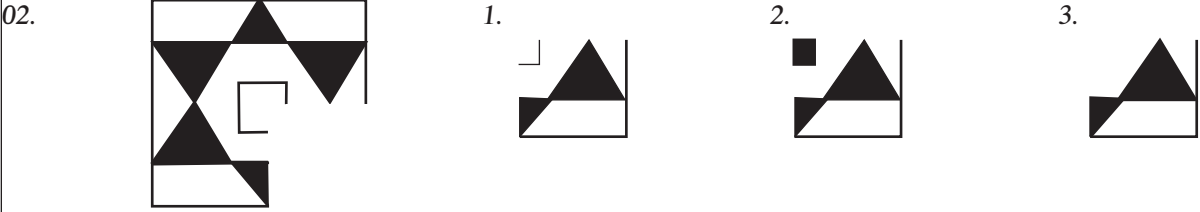
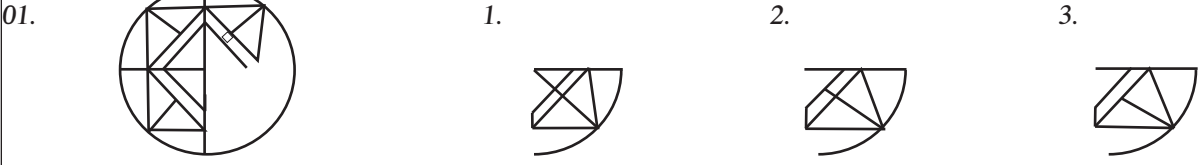
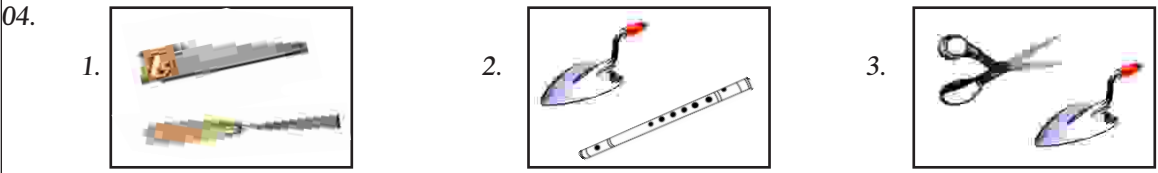


❖ ஒவ்வொரு வினாவிற்கும் உரிய சரியான விடையைத் தரப்பட்டுள்ள மூன்று விடைகளிடையே தெரிந்தெடுத்து அதன் கீழ் கோடிடுக.



❖ வெற்றிடத்திற்குப் பொருத்தமான விடையைத் தெரிவு செய்க.



❖ ஒன்றுக்கொன்று தொடர்பில்லாத உருக்கள் உள்ள அடைப்பைத் தெரிவு செய்க.



❖ தரப்பட்டுள்ள உருக்கோலத்தில் அடுத்து வரும் உருவைத் தெரிவு செய்க.



❖ 07 ஆம், 08 ஆம் வினாக்களில் வெற்றிடத்திற்குப் பொருத்தமான சொல்லைத் தெரிவு செய்க.

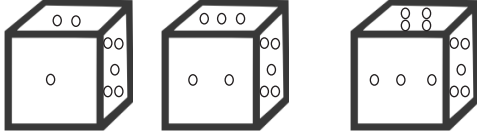
07. பொய்கையில் அன்னம்
உணவின் பெயர் அன்னம்
குழந்தையின் கன்னம்
தேர்தலில் 1. சன்னம் 2. சின்னம் 3. பன்னம்

08. வீசும் பந்து
தெருவினில் சந்து
வெற்றிக்கு முந்து
பாடுவாய்..... 1. சிந்து 2. மந்து 3. குந்து

19. யஷ்வினி காலையில் பாடசாலை நோக்கிச் செல்லும் போது அவளது நிழல் இடது கைப்பக்கம் விழுந்தது எனின் யஷ்வினி பாடசாலை நோக்கிச் செல்லும் திசை எது?
1. கிழக்கு 2. மேற்கு 3. வடக்கு

20. அபிசாயினி தமிழ்ப்பாடப் புத்தகத்தில் 35 ஆம் பக்கத்தில் இருந்து 80 ஆம் பக்கம் வரை வாசித்து முடித்தாள் எனின் அவள் வாசித்த தாள்களின் எண்ணிக்கை யாது?
1. 23 2. 45 3. 46

- ❖ 1 இலிருந்து 6 வரையான புள்ளிகள் இடப்பட்டுள்ள சதுரமுகக் குற்றி ஒன்றின் முன்று வடிவங்கள் கீழே காட்டப்பட்டுள்ளன. இதை அவதானித்து 21 ஆம், 22 ஆம் வினாக்களுக்குரிய விடையைத் தெரிவு செய்க.



21. இங்கு இரு புள்ளிகள் இடப்பட்டுள்ள பக்கத்திற்கு எதிர்ப்பக்கத்தில் உள்ள புள்ளிகளின் எண்ணிக்கை யாது?
1. 3 2. 5 3. 4



22. இங்கு ஐந்து புள்ளியிடப்பட்டுள்ள பக்கத்திற்கு எதிர்ப்பக்கத்தில் எத்தனை புள்ளிகள் இருக்கும்?
1. 6 2. 4 3. 1

23. கீழ் உள்ள எழுத்துக்களின் மீது மையைப் பூசி அவ் எழுத்துக்களிற்கு எதிரே அச்சிடுமாறு புள்ளிக்கோடு வழியே தாளை இரண்டாக மடித்து விரிக்கும் போது கிடைக்கும் வடிவம் யாது?

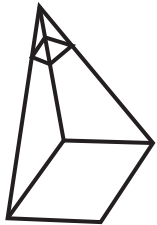


1. PAC 2. PAA 3. CAP

24. இரு பகுதிகளும் சமனான வடிவங்களைக் கொண்ட கூட்டத்தைத் தெரிவு செய்க.



25. பெரிய கூம்பகம் ஒன்றின் மேற்பகுதியில் இருந்து சிறிய கூம்பக வடிவம் ஒன்றினை வெட்டி நீக்கிய பின் தோன்றும் உருவில் உள்ள உச்சிகளின் எண்ணிக்கை யாது?
1. 8 2. 6 3. 5



26. வரிசை ஒன்றின் சரி நடுவில் நிற்கும் ஏரகன் முன்னாலிலிருந்து 10 ஆவதாக உள்ளான் எனின் அவ் வரிசையில் உள்ளவர்களின் மொத்த எண்ணிக்கை யாது?
1. 20 2. 19 3. 21

27. 50 இற்கும் 60 இற்கும் இடைப்பட்ட எண்களை எழுதும்போது இலக்கம் 5 எழுதப்படும் தடவைகளின் எண்ணிக்கை யாது?
1. 11 2. 10 3. 9

