



மாணவர்களைப் பாடசாலைக்குத் தேர்ந்தெடுப்பதற்கும் மாணவர்களுக்கு உதவிப்பணம் வழங்குவதற்குமாகத் தரம் ஐந்து மாணவர்களுக்கு நடத்தப்படும் பரீட்சைக்கான வழிகாட்டல்.

வினாத்தாள் - I

3

45 நிமிடம்

சுட்டெண்

பரீட்சைக்குத் தோற்றும் உங்களுக்குரிய அறிவுறுத்தல்கள்.

- ★ உங்கள் சுட்டெண்ணை மேற்குறித்த அடைப்பினுள்ளே இருக்கும் புள்ளிக்கோட்டின் மீது எழுதுங்கள்.
- ★ மூன்றாம் பக்கத்தில் குறித்த இடத்திலும், உங்கள் சுட்டெண்ணை எழுதுங்கள்.
- ★ இவ்வினாத்தாளில் 40 வினாக்கள் உள்ளன.
- ★ 1 - 40 வரையுள்ள ஒவ்வொரு வினாவிலும் மூன்று விடைகள் தரப்பட்டுள்ளன. மிகச் சரியான விடையைத் தெரிவுசெய்து அதன்கீழ்க் கோடிடுக.

விடைத்தாள் பரீட்சகர்களுக்கு மாத்திரம்

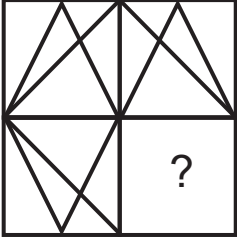
பக்க இலக்கம்	பெற்ற புள்ளிகள்
02	
03	
04	
05	
06	
மொத்தம்	
இறுதிப்புள்ளிகள்	
இலக்கத்தில்	
எழுத்தில்	

	ஒப்பம்
முதலாவது பரீட்சகர் புள்ளி வழங்கும் விதிமுறைக்கேற்ப விடைத்தாள் மதிப்பீடு செய்யப்பட்டதெனச் சான்றுப் படுத்துகின்றேன்.	V/II/T/
இரண்டாவது பரீட்சகர் முதலாவது பரிசீலனையின் மதிப்பீடு சரியானதெனச் சான்று பகிர்கின்றேன்.	V/II/T/
கணித பரீட்சகர் மதிப்பீடு வழங்கப்பட்ட புள்ளிகள் மற்றும் இறுதிப் புள்ளி சரியானதென தெரிவிக்கின்றேன்	V/II/T/EMF/
பிரதம பரீட்சகர் மேற்பார்வை செய்வதற்கு இணங்க இறுதிப் புள்ளி சரியானதெனத் தெரிவிக்கின்றேன்	V/II/T/CH/

❖ ஒவ்வொரு வினாவுக்கும் முன்று விடைகள் தரப்பட்டுள்ளன. அவற்றிடையே ஒவ்வொரு வினாவிற்கும் உரிய சரியான விடையைத் தெரிவு செய்து அதன் கீழ்க் கோட்டுக.

❖ 1 ஆம் , 2 ஆம் வினாக்களில் முதலில் தரப்பட்டுள்ள உருவைப் பூர்த்தி செய்வதற்குப் பொருத்தமான பகுதியைத் தெரிவு செய்க.

01.



1.




2.



3.



02.



1.



2.



3.


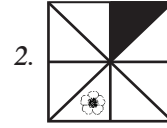
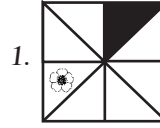



❖ கோலத்தை இனங்கண்டு வெற்றிடங்களுக்குப் பொருத்தமான விடையைத் தெரிவு செய்க.

03.



04.



05. எல்லா மாணவர்களுக்கும் பொதுவான பண்பு

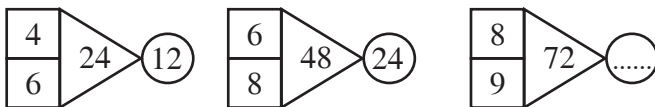
1. தினமும் வீட்டுப்பாடம் தொடர்பான வேலைகளில் ஈடுபடுதல்.
2. அதிக எண்ணிக்கையான நண்பர்களைக் கொண்டிருத்தல்.
3. ஏதேனும் ஒரு வகுப்பில் கல்வி கற்றல்.

06. தேன்கூடு ஒன்றில் உள்ள தேனீக்களின் எண்ணிக்கை ஒவ்வொரு நிமிடத்திற்கும் இரட்டிப்பாக மாறுகின்றது. தேன் கூட்டின் $\frac{1}{4}$ பகுதி தேனீக்கள் மு. ப 8.57ற்கு காணப்பட்டது. தேன்கூடு தேனீக்களால் முழுமையாக நிரம்பியிருந்த நேரம்

1. மு.ப 8.58
2. மு. ப 9.00
3. மு.ப 8.59

❖ 07, 08 ஆகிய வினாக்களின் வெற்றிடத்திற்குப் பொருத்தமான விடையைத் தெரிவு செய்க.

07.




1. 32

2. 36

3. 38

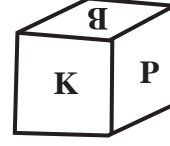
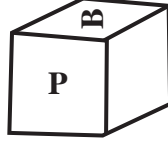
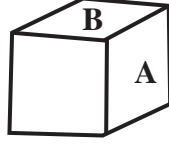
26. உருவைப் பார்த்து சரியான விடையைத் தெரிவு செய்க.



முழு உருவின் பரப்பளவு நிழற்றப்பட்டுள்ள உருவின் பரப்பளவின் எத்தனை மடங்கு ஆகும்?

1. 8 மடங்கு 2. 4 மடங்கு 3. 2 மடங்கு

27.



சதுரமுகியொன்று மூன்று பக்கங்களால் பார்க்கும் போது தோன்றும் விதத்தை உருக்கள் காட்டுகின்றன. அதன்படி R முகத்திற்கு எதிர்ப்பக்கத்திலுள்ள முகம் எது?

1. A 2. K 3. B

தனுசன் ஆண்பிள்ளை ஆவான். தனுசனின் அக்காவிற்கு இரண்டு ஆண் சகோதரர்களும் இரண்டு சகோதரிகளும் உள்ளனர்.

28. தனுசனுக்கு எத்தனை சகோதரர் உள்ளனர்?

1. 4 2. 1 3. 3

29. தனுசனுக்கு எத்தனை சகோதரிகள் உள்ளனர்?



1. 4 2. 2 3. 3

30. சொற்கோலத்தை அவதானித்து இடைவெளியில் வரவேண்டிய சொல்லைத் தெரிவு செய்க.

பதவி → வித்து → துறவி →

1. விறகு 2. படகு 3. திகதி

❖ தரப்பட்டுள்ள தகவல்களை அடிப்படையாகக் கொண்டு 31 ஆம் , 32 ஆம் வினாக்களுக்கு விடை தருக.



31. அன்னாசிப் பழங்கள் 3 இனதும் மாம்பழங்கள் 5 இனதும் விலை யாது?

1. ரூபாய் 80.00 2. ரூபாய் 100.00 3. ரூபாய் 90.00

32. அன்னாசிப்பழம் 1 இனதும் மாம்பழம் 1 இனதும் விலை யாது?

1. ரூபாய் 22.00 2. ரூபாய் 24.00 3. ரூபாய் 20.00

மாகாணக் கல்வித் திணைக்களம் - வடமாகாணம்
பயிற்சிப் பரீட்சை 03 இன் விடைகள்

தரம் - 05

3

வினாத்தாள் - I

1. 3

2. 1

3. 3

4. 2

5. 3

6. 3

7. 2

8. 2

9. 1

10. 2

11. 2

12. 3

13. 3

14. 2

15. 3

16. 2

17. 2

18. 2

19. 2

20. 1

21. 2

22. 3

23. 2

24. 2

25. 3

26. 2

27. 2

28. 2

29. 3

30. 1

31. 3

32. 1

33. 3

34. 3

35. 2

36. 2

37. 2

38. 1

39. 1

40.

1.	பா	க்	2.	கு
	ம்			யீ
3.	பு	ய		ல்