



மாணவர்களைப் பாடசாலைக்குத் தேர்ந்தெடுப்பதற்கும் மாணவர்களுக்கு உதவிப்பணம் வழங்குவதற்குமாகத் தரம் ஐந்து மாணவர்களுக்கு நடத்தப்படும் பரீட்சைக்கான வழிகாட்டல்.

வினாத்தாள் - II

5

1 மணித்தியாலம் 15 நிமிடம்

சுட்டெண்

- பரீட்சைக்குத் தோற்றும் உங்களுக்குரிய அறிவுறுத்தல்கள்.
- ★ உங்கள் சுட்டெண்ணை மேற்குறித்த அடைப்பினுள்ளே இருக்கும் புள்ளிக்கோட்டின் மீது எழுதுங்கள்
 - ★ மூன்றாம் பக்கத்தில் குறித்த இடத்திலும், உங்கள் சுட்டெண்ணை எழுதுக.
 - ★ இவ்வினாத்தாளில் 59 வினாக்கள் உள்ளன. எல்லா வினாக்களுக்கும் உரிய விடைகளை இவ்வினாத்தாளிலேயே எழுதுக
 - ★ நான்கு விடைகள் தரப்பட்டுள்ள வினாக்களில் சரியான விடையைத் தெரிவு செய்து அதன் கீழ்க் கோடிடுக.
 - ★ விடைகள் எழுதப்படவேண்டிய வினாக்களின் விடைகளைப் புள்ளிக்கோட்டின் மீது எழுதுக.
 - ★ செய்கை வேலைக்காக ஒருதாள் வழங்கப்படும்

விடைத்தாள் பரீட்சகர்களுக்கு மாத்திரம்

பக்க இலக்கம்	பெற்ற புள்ளிகள்
02	
03	
04	
05	
06	
07	
08	
மொத்தம்	
இறுதிப்புள்ளிகள்	
இலக்கத்தில்	
எழுத்தில்	

	ஒப்பம்
முதலாவது பரீட்சகர் புள்ளி வழங்கும் விதிமுறைக்கேற்ப விடைத்தாள் மதிப்பீடு செய்யப்பட்டதெனச் சான்றுப் படுத்துகின்றேன்.	V/II/T/
இரண்டாவது பரீட்சகர் முதலாவது பரிசீலனையின் மதிப்பீடு சரியானதெனச் சான்று பகிர்கின்றேன்.	V/II/T/
கணித பரீட்சகர் மதிப்பீடு வழங்கப்பட்ட புள்ளிகள் மற்றும் இறுதிப் புள்ளி சரியானதென தெரிவிக்கின்றேன்	V/II/T/EMF/
பிரதம பரீட்சகர் மேற்பார்வை செய்வதற்கு இணங்க இறுதிப் புள்ளி சரியானதெனத் தெரிவிக்கின்றேன்	V/II/T/CH/

01. பின்வரும் பாடலை நன்றாக வாசித்துக் கீழ்க்காணும் வினாக்களுக்கு விடை எழுதுக.

சுத்தம் தெருவில் செய்கிறாய்
சிறந்த தொண்டன் ஆகிறாய்
வண்ணக் குயில் குஞ்சுக்கு
வளர்ப்புத் தாயும் நீயாவாய்!

விட்டுக் கொடுத்து வாழும்
வித்தை எங்கு கற்றீரோ?
கற்கும் சிறுவர் மனத்திலே
கருத்தை விதைத்து உயர்த்துகிறாய்?

1. இப் பாடல் எந்தப் பறவையைப் பற்றிக் கூறுகிறது?

.....

2. பாடலில் வந்துள்ள நிறுத்தற் குறிகள் எவை?

.....

3. ஒத்த சொல் தருக.

i. வழி - ii. அகத்திலே -

4. விட்டுக் கொடுத்து வாழும் பிராணி எது?

5. பாடலில் வந்துள்ள பெயர் அடைமொழிச் சொல் ஒன்று தருக.

.....

6. விசிறியும் சுழியும், அரவும் இடம்பெற்ற சொல் எது?

.....

(1 x 6 = 6 புள்ளி)

02. கீழே தரப்பட்டுள்ள வாக்கியங்களில் வெற்றிடத்திற்கு பொருத்தமான சொல்லைத் தெரிவுசெய்து எழுதுக.

1. காலையில் குயில்கள் இனிமையாக (கூவியது, கூவின)

2. திருடனைக் கண்ட நாய் (குரைத்தன, குரைத்தது)

(2 x 1 = 2 புள்ளி)

03. பின்வரும் பழமொழிகளின் கருத்தினை புள்ளிக்கோட்டில் எழுதுக.

1. கந்தையானாலும் கசக்கிக்கட்டு -

2. அன்பான சிநேகிதனை ஆபத்தில் அறியலாம் -

(2 x 1 = 2 புள்ளி)

04. பின்வரும் கருத்துக்களுக்கும் வொருத்தமான மரபுத்தொடரை எழுதுக.

1. ஆபத்து வேளையில் கைவிடல் -
 2. மனதை வருந்தச் செய்தல் -
- (2 x 1 = 2 புள்ளி)

05. பின்வரும் பாடல்களின் இடைவெளிகளை நிரப்புக.

1. கும்மியடி பெண்ணே கும்மியடி - நீ
.....
குழந்தைப் பெண்ணே கும்மியடி - நீ
குலத்தைக் காத்திட கும்மியடி
 2. சாய்ந்தா டம்மா சாய்ந்தாடு
தாமரைப்பூவே சாய்ந்தாடு
.....
கோவிற் புறாவே சாய்ந்தாடு
- (2 x 1 = 2 புள்ளி)


06. ஒழுங்குபடுத்தி கருத்துள்ள வாக்கியமாக எழுதுக.

1. அழிப்பதனால் / காடுகளை / சூழல் / மாசடைகின்றது / சுற்றுப்புறச்
.....
 2. தொழிலுக்கு / வேறெதுவும் / உழவுத் / ஒப்பானது / இவ்வுலகில் / இல்லை.
.....
- (2 x 1 = 2 புள்ளி)

07. பின்வரும் விடுகதைகளுக்குரிய விடைகளை எழுதுக.

1. தன்னிடம் சேருபவனை தன்னைப்போல் மாற்றுவான் அவன் யார்?
2. வில்லாய் வளைபவன் ஒருபோதும் ஒடிந்து போக மாட்டான் அவன் யார்?

08. ஒவ்வொரு படத்திற்கும் வொருத்தமான ஆங்கிலப் பெயரை ஆங்கிலத்தில் எழுதுக.



- (1 x 1 = 1 புள்ளி)

09. பின்வரும் ஆங்கில வாக்கியங்களின் தமிழ்க் கருத்தை எழுதுக.

1. Be Careful -
2. Please do your home work - (2 x 1 = 2 புள்ளி)

10. பின்வரும் சிங்களச் சொற்களின் தமிழ்க் கருத்தை எழுதுக.

1. கரவில -

(1 x 1 = 1 புள்ளி)

11. பின்வரும் சிங்கள வாக்கியத்தின் கருத்தை தமிழில் எழுதுக.

1. சத்து வத்த(L)L யமு (Dh) த ? -

2. ரு (ப்) பியல் திறய் -

(2 x 1 = 2 புள்ளி)

12. அன்றாடம் நாம் இயற்கையான காய்கறிகளை உண்டு நோயின்றி வாழவேண்டும். “வீட்டுத் தோட்டத்தின் பயன்கள்” என்னும் தலைப்பில் கருத்துள்ள ஐந்து சொற்களுக்குக் குறையாத மூன்று வாக்கியங்கள் எழுதுக.

1.

.....

2.

.....

3.

.....

(3 x 2 = 6 புள்ளி)

சரியான விடையைப் புள்ளிக்கோட்டின் மீது எழுதுக.

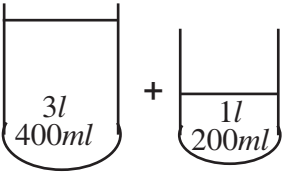
13.

9	4
1	2

1. தரப்பட்டுள்ள இலக்கங்களைப் பயன்படுத்தி ஆக்கக்கூடிய மிகச் சிறிய எண்ணை எழுதுக.

2. மிகச் சிறிய எண்ணில் 2 குறிக்கும் பெறுமானம் யாது?

14.



இரண்டு பாத்திரங்களிலும் உள்ள நீரின் மொத்த அளவு யாது?

.....

15. 40 தொடக்கம் 50 வரையான எண்களை எழுதும் போது நடுவில் வரும் எண் யாது?

16. காலை 7.15 ற்கு புறப்பட்ட புகையிரதம் பிற்பகல் 3.45 ற்கு கொழும்பைச் சென்றடைந்தது.

1. கொழும்பைச் சென்றடைந்த நேரத்தை நியம நேரத்தில் எழுதுக.

2. பயணத்திற்குச் செலவிடப்பட்ட நேரம் எவ்வளவு?

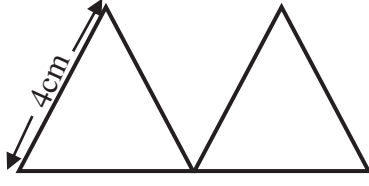
17. சதுரமுகி ஒன்றின் விளிம்பு ஒன்றின் நீளம் 8cm எனின் மொத்த விளிம்புகளின் நீளம் யாது?

.....

18. A குவியலில் 850 தேங்காய்களும் B குவியலில் A குவியலின் இருமடங்கு தேங்காய்களும் உள்ளன. A, B ஆகிய இரு குவியல்களிலும் காணப்பட்ட மொத்தத் தேங்காய்களின் எண்ணிக்கை யாது?

19. சங்கரை விட மதன் உயரம் கூடியவன். சங்கரை விட ராமு உயரம் குறைந்தவன். எல்லோரிலும் உயரம் கூடியவன் குமார் எனின் இவர்களில் உயரம் குறைந்தவர் யார்?

20.

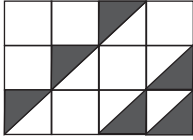


சமபக்க முக்கோணிகள் இரண்டு ஒன்றோடு ஒன்று பொருத்தப் பட்டுள்ள இவ் உருவின் சுற்றளவு யாது?

21. ஒரு சாடியில் 750ml நீர் உள்ளது. சாடியை முழுமையாக நிரப்ப இன்னும் 500ml நீர் தேவை எனின் சாடி கொள்ளும் நீரின் அளவு யாது?

22. சமநிறை கொண்ட 5 பொதிகளின் நிறை 4kg 800g ஆகும் எனின் இரண்டு பொதிகளின் நிறை யாது?


23.



நிழற்றப்பட்ட பகுதியை பின்னமாகத் தருக?

24. 500ml மண்ணெண்ணெய் ரூபா 45.00 ஆகும். ஒருவர் 5l மண்ணெண்ணெய் வாங்கி கடைக்காரரிடம் ரூபா 500.00 ஐ கொடுத்தால் அவனுக்குக் கிடைக்கும் மீதிப்பணம் எவ்வளவு?

25.



படத்தில் காட்டப்பட்டுள்ள பூக்களின் மொத்த எண்ணிக்கையை உரோமன் எண்ணில் எழுதுக.

26. மைதானத்தைச் சுற்றி 3m சமஇடைவெளியில் சிவப்பு, பச்சை, நீலம் எனும் ஒழுங்கில் 30 மின்குமிழ்கள் ஒளிர்விடப்பட்டன எனின் மைதானத்தின் சுற்றளவு யாது?

27. ஒரு பாடசாலைக்கு 3240 விசுக்கோத்துக்கள் வழங்கப்பட்டன. ஒரு மாணவனுக்கு 3 விசுக்கோத்துகள் வீதம் எத்தனை மாணவர்களுக்கு வழங்க போதுமானது?

(15 x 2 = 30 புள்ளி)

மிகப் விரைந்தமான விடையின் கீழ்க் கோடுக.

28. தியானச் செயற்பாட்டின் இரண்டாவது படிநிலை எது?

1. உடலைத் தளர்த்தல் 2. மனதை தளர்த்தல் 3. மனஉறுதி 4. மலர்வு

29. இரும்பு மரம் என அழைக்கப்படுவது?

1. தேக்கு மரம் 2. பலா மரம் 3. நாக மரம் 4. முருங்கை மரம்

30. எண்ணெய் பெறுவதற்கு பயன்படாத வித்து எது?

1. எள்ளு 2. பயறு 3. கச்சான் 4. வேம்பு

31. தோசம் நீக்கிக்கொள்ள “பிரித் ஓதிய நீர்” தெளிக்கும் சம்பிரதாயத்துடன் தொடர்புடைய இனத்தவர்.

1. பௌத்தர் 2. தமிழர் 3. இஸ்லாமியர் 4. கத்தோலிக்கர்

32. “பின்னவல” எவ்விலங்குச் சரணாலயம்?

1. சிங்கம் 2. மான் 3. புலி 4. யானை

33. தச்ச வேலைக்கு பயன்படும் உபகரணம்?



1)



2)



3)



4)

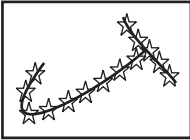
34. இலங்கையில் முதன் முதல் தோன்றிய குளம் எது?

1. அபயவாவி 2. மின்னேரியா 3. பதவியா 4. சேனநாயக்க சமுத்திரம்

35. மீன் எப்பாகத்தினால் சுவாசிக்கின்றது?

1. கண் 2. பூ 3. முதுகுச்செட்டை 4. மேற்றோல்

36. இவ்வுருவில் காணப்படும் உடுத்தொகுதி



1. கார்த்திகை 2. பெருங்கரடி 3. விருச்சிகம் 4. வேட்டைக்காரன்

37. மத்திய மாகாணத்தில் உள்ள மாவட்டங்களின் எண்ணிக்கை.

1. 4 2. 3 3. 5 6. 2

38. அலங்கார வேலைக்கு பயன்படும் தையல்

1. பெரிய நூலோடல் 2. சிறிய நூலோடல் 3. சோம் 4. கம்பளித்தையல்

39. அசுத்த நீரினை பருகுவதனால் ஏற்படும் நோய்கள் அடங்கிய தொகுதி.

1. டெங்கு, மலேரியா, யானைக்கால்
2. குவாசியக்கோர், என்புருக்கி, வாந்திபேதி
3. இருமல், தடிமன், மலேரியா
4. கொலரா, கழிச்சல், நெருப்புக்காய்ச்சல்

40. இப்படத்தில் குறிப்பது.



1. இப்பக்கம் மேலே 2. நீர் குடித்தல்
3. உடையக்கூடியது 4. ஈரலிப்பிலிருந்து பாதுகாக்கவும்

41. எரிபொருள் நிரப்பு நிலையத்தைக் குறிப்பது எது?



ලංකා විදුලිබල මණ්ඩලය
இலங்கை மின்சார சபை
CEYLON ELECTRICITY BOARD



42. இலங்கையின் தேசிய மலர் எது?

1. அல்லி 2. காட்டுமல்லிகை 3. நித்திய கல்யாணி 4. நீல அல்லி

43. மின்னேரியாக் குளத்தைக் கட்டியவர்?

1. காசியப்பன் 2. தாதுசேனன் 3. மகாசேனன் 4. மகாபராக்கிரமபாகு

44. நீர்ச்சுழலியின் வேகத்தை அதிகரிக்க செய்ய வேண்டியது?

1. நீரை மெதுவாக ஊற்றுதல் 2. சுழலியை கையால் பிடித்து சுழற்றல்
3. நீரை வேகமாக ஊற்றுதல் 4. சுழலி அச்சின் நிறையைக் கூட்டுதல்

45. இலங்கையிலுள்ள ஆதிவாசிகளின் நடனம் எது?

1. பரதநாட்டியம் 2. கிரிகொரங்க 3. கண்டிய நடனம் 4. கும்மி


46. பூக்களை சேதமாக்கும் பிராணி எது?

1. வெட்டுக்கிளி 2. செண்பகம் 3. நத்தை 4. அட்டை


47. அரச இலச்சினை பொறிக்கப்பட்டுள்ள ஆவணம் அல்லாதது எது?

1. நாணயம் 2. கடவுச்சீட்டு 3. தேசிய அடையாள அட்டை 4. தனியார் நூல்கள்

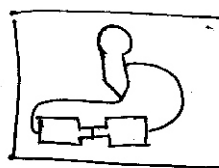
48. பின்வருவனவற்றில் ஒளிர்க்கூடிய மின்சுற்று எது?



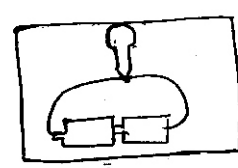
(1)



(2)



(3)



(4)

49. வித்துக்கள் மூலம் ஆக்கப்படும் ஆக்கம்

1. ஓரிகாமி 2. அல்பனா 3. கொலாச் 4. ஸ்ரென்சில்

50. இருமல், ஆஸ்த்துமா போன்ற நோய்களைக் குணப்படுத்தும் தாவரம் எது?

1. பாகற்காய் 2. கண்டங்கத்தரி 3. பூசணி 4. புடோல்

51. தேசிய அடையாள அட்டையை வழங்கும் திணைக்களம் எது?
1. குடிவரவு குடியகல்வு திணைக்களம்
 2. பிரதேச செயலகம்
 3. மாவட்ட செயலகம்
 4. தேசிய ஆட்பதிவுத் திணைக்களம்
52. நீர்க்குடத்தில் மோதிரத்தை இட்டு மணமகனும் மணமகளும் தேடி எடுக்கும் சடங்கு செய்பவர்கள்?
1. தமிழர்
 2. சிங்களவர்
 3. முஸ்லிம்
 4. பறங்கியர்
53. மிளகுடன் சேர்த்து கலப்படம் செய்யப்படும் வித்து?
1. கடுகு
 2. குரக்கன்
 3. பப்பாசிவித்து
 4. பூசணி வித்து
54. இலங்கைக்கு கிழக்கே அமைந்துள்ள நாடுகள்
1. இந்தியா, மாலதீவு
 2. மலேசியா, தாய்லாந்து
 3. ஈரான், சிங்கப்பூர்
 4. தாய்வான், சீனா
55. பொருளாதார நன்மைக்காக வளர்க்கப்படும் பிராணி எது?
1. சிங்கம்
 2. காகம்
 3. தேனீ
 4. நாய்
56. வயல்களில் தீங்கு விளைவிக்கும் பூச்சிகளை பிடித்துண்ணும் பறவை எது?
1. புறா
 2. ஆந்தை
 3. காகம்
 4. குயில்
57. நிறைவேற்று அதிகாரம் கொண்ட முதலாவது ஜனாதிபதி யார்?
1. D.S சேனநாயக்கா
 2. J.R ஜெயவர்த்தனா
 3. வணஎஸ்மஹிந்த
 4. வில்லியம் கோபல்லாவா
58. பால்மா தொழிற்சாலை அமைந்துள்ள இடம் எது?
1. பொலநறுவை
 2. அம்பேவல
 3. வெலிசற
 4. பியந்தல

