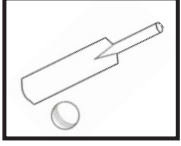


❖ பின்வருவனவற்றுள் இரண்டு உருவங்கள் ஒத்த தன்மையுடையவை. வேறாய்ந்த உருவின் கீழ் கோடிடுக.

01.



1)



2)



3)


02.



1)




2)



3)

❖ கீழே தரப்பட்ட சொற்களுக்கு வாய்ந்தமான உருவைத் தெரிவுசெய்க.

03. ஒரு மெதுவாக, கால்கள் அற்றது



1)



2)



3)

04. மரப்பொந்து, தாவரவுண்ணி, பேசும்



1)



2)



3)

❖ கூட்டில் உள்ள எண்களுக்குப் பதிலாக ஈடுபடுத்தக்கூடிய எண்களைக் கொண்ட கூட்டைத் தெரிவுசெய்க.

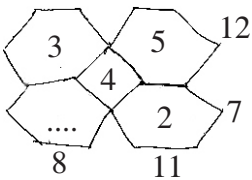
05. $11 + \boxed{16 + 10} = 37$

1. $\boxed{14 + 12}$

2. $\boxed{20 + 3}$

3. $\boxed{14 + 11}$

06. வெற்றுக் கூட்டுக்குள் வரவேண்டிய எண்ணைத் தெரிவுசெய்க.




1) 2


2) 5

3) 1

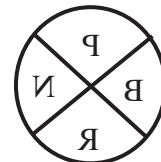
07.



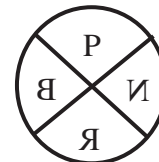
இவ்வருவை தளவாடியில் அவதானிக்கும்போது தோன்றும் சரியான உருவைத் தெரிவுசெய்க.



1



2



3

மாகாணக் கல்வித் திணைக்களம் - வடமாகாணம்
பயிற்சிப் பரீட்சை 05 இன் விடைகள்

தரம் - 05

5

வினாத்தாள் - I

1. 3

2. 1

3. 2

4. 3

5. 1

6. 3

7. 2

8. 1

9. 3

10. 3

11. 3

12. 1

13. 2

14. 1

15. 1

16. 1

17. 2

18. 1

19. 1

20. 2

21. 3

22. 3

23. 3

24. 1

25. 3

26. 2

27. 1

28. 2

29. 3

30. 1

31. 1

32. 3

33. 1

34. 2

35. 1

36. 2

37. 2

38. 1

39. 1

40. 3