



மாணவர்களைப் பாடசாலைக்குத் தேர்ந்தெடுப்பதற்கும் மாணவர்களுக்கு உதவிப்பணம் வழங்குவதற்குமாகத் தரம் ஐந்து மாணவர்களுக்கு நடத்தப்படும் பரீட்சைக்கான வழிகாட்டல்.

வினாத்தாள் - II

8

1 மணித்தியாலம் 15 நிமிடம்

சுட்டெண்

பரீட்சைக்குத் தோற்றும் உங்களுக்குரிய அறிவுறுத்தல்கள்.

- ★ உங்கள் சுட்டெண்ணை மேற்குறித்த அடைப்பினுள்ளே இருக்கும் புள்ளிக்கோட்டின் மீது எழுதுங்கள்
- ★ மூன்றாம் பக்கத்தில் குறித்த இடத்திலும், உங்கள் சுட்டெண்ணை எழுதுக.
- ★ இவ்வினாத்தாளில் 45 வினாக்கள் உள்ளன. எல்லா வினாக்களுக்கும் உரிய விடைகளை இவ்வினாத்தாளிலேயே எழுதுக
- ★ நான்கு விடைகள் தரப்பட்டுள்ள வினாக்களில் சரியான விடையைத் தெரிவு செய்து அதன் கீழ்க் கோடிடுக.
- ★ விடைகள் எழுதப்படவேண்டிய வினாக்களின் விடைகளைப் புள்ளிக்கோட்டின் மீது எழுதுக.
- ★ செய்கை வேலைக்காக ஒருதாள் வழங்கப்படும்

விடைத்தாள் பரீட்சகர்களுக்கு மாத்திரம்

பக்க இலக்கம்	பெற்ற புள்ளிகள்
02	
03	
04	
05	
06	
07	
08	
மொத்தம்	
இறுதிப்புள்ளிகள்	
இலக்கத்தில்	
எழுத்தில்	

	ஒப்பம்
முதலாவது பரீட்சகர் புள்ளி வழங்கும் விதிமுறைக்கேற்ப விடைத்தாள் மதிப்பீடு செய்யப்பட்டதெனச் சான்றுப் படுத்துகின்றேன்.	V/II/T/
இரண்டாவது பரீட்சகர் முதலாவது பரிசீலனையின் மதிப்பீடு சரியானதெனச் சான்று பகிர்கின்றேன்.	V/II/T/
கணித பரீட்சகர் மதிப்பீடு வழங்கப்பட்ட புள்ளிகள் மற்றும் இறுதிப் புள்ளி சரியானதென தெரிவிக்கின்றேன்	V/II/T/EMF/
பிரதம பரீட்சகர் மேற்பார்வை செய்வதற்கு இணங்க இறுதிப் புள்ளி சரியானதெனத் தெரிவிக்கின்றேன்	V/II/T/CH/

01. பின்வரும் பாடலை வாசித்து வினாக்களுக்கு விடை எழுதுக.

சத்தம் தொடர்ந்து போட்டிடுமே!
நித்தம் வெளியில் காட்டிடுமே!
தத்தித் தத்திச் சென்றிடுமே!
தண்ணீர் என்றால் ஒன்றிடுமே!

பாம்பைக் கண்டால் நடுங்கிடுமே!
பாய்ந்தே ஓடி ஓடுங்கிடுமே!
வீம்பாய்க் கத்திக் கெட்டிடுமே!
விரோதி கண்ணில் பட்டிடுமே!

நதியில் நீச்சல் அடித்திடுமே!
நாக்கால் பூச்சி பிடித்திடுமே!
அதிகம் பேசி ஆடிடுமே!
அழிவை அதுவே தேடிடுமே.

I. இப்பாடல் எப்பிராணி பற்றிக் கூறுகிறது?

.....

ii. தண்ணீர் என்ற சொல்லைப் பிரித்து எழுதுக.

.....

iii. அ.:றிணைப் படர்க்கை ஒருமைப் பெயர்ச்சொல் ஒன்றை எழுதுக.

.....

iv. ஆக்கத்தை என்ற சொல்லின் எதிர்ப்பதம் யாது?

.....

v. வினையெச்சச் சொல் ஒன்று எழுதுக.

.....

vi. ஆறு என்ற சொல்லின் ஒத்தகருத்துச் சொல்லை எழுதுக.

.....

(6 x 1 = 6 புள்ளி)

02. கீழே தரப்பட்டுள்ள வாக்கியங்களில் இருக்கும் வெற்றிடத்திற்குப் பொருத்தமான சொல்லை அடைப்புக்குள் இருந்து தெரிவு செய்து அதன் கீழ் கோட்டுக?

I. நேற்று பெய்தது (மலை, மழை, மனை)

ii. “..... செய விரும்பு” என ஒளவையார் பாடினார். (அறம், அரம், மறம்)

iii. மாகாணத்தை நிர்வகிப்பவர் (ஆலுநர், ஆமுனர், ஆளுநர்)

(3 x 1 = 3 புள்ளி)

03. பின்வரும் சொற்களில் உள்ள உயிர்க்குறிகளை எழுதுக.

I. பரீட்சை :

ii. கோபம் : (2 x 1 = 2 புள்ளி)

04. பின்வரும் பழமொழிகளைப் பூர்த்தி செய்க.

I. அடம்பன் கொடியும்

ii. சிலையில் எழுத்து (2 x 1 = 2 புள்ளி)

05. பின்வரும் மரபுத் தொடர்களின் கருத்தை எழுதுக.

I. அடியொற்றுதல் :-

ii. கண் மலர்தல் :- (2 x 1 = 2 புள்ளி)

06. பின்வரும் உவமைத் தொடர்களின் கருத்தை தரும் விடையின் கீழ்க் கீறிக.

I. அடியற்ற மரம் போல :- மயங்குதல், மூல பலம் அற்றது

ii. நகமும் சசையும் போல :- ஒற்றுமை, பகைமை (2 x 1 = 2 புள்ளி)

07. பின்வரும் சொற்களை ஒழுங்குபடுத்திக் கருத்துள்ள வாக்கியமாக எழுதுக.

i. அமைதியாக / கொண்டிருக்கிறது / ஓடிக் / கங்கை / மாணிக்க

.....

ii. உழைப்பும் / பாஸ்டரின் / உள்ளவனுக்கு / உறுதியும் / கொள்கையாகும் / வெற்றி திண்ணம் / என்பது

.....

.....

(2 x 1 = 2 புள்ளி)

08. கீழே தரப்பட்டுள்ள சொற்றொடருக்குரிய தனிச்சொல்லைப் புள்ளிக்கோட்டின் மீது எழுதுக.

i. ஒரே பாடசாலையில் ஒன்றாகப் படித்தவன் :

ii. முனிவர்கள் வாழும் இடம் : (2 x 1 = 2 புள்ளி)

09. பின்வரும் வாக்கியத்தை பன்மை வடிவிற்கு மாற்றி எழுதுக.

i. வயலில் முள் இருந்தது.

(1 x 1 = 1 புள்ளி)

10.1. பின்வரும் பாடல் வரிகளைப் பூர்த்தி செய்க.

i. குருவிக் கூடு சிறியது
குஞ்சு வாழச் சிறந்தது
உருவிற சிறிய கூடுதான்

.....

ii. இடர்வரும் போதும் - உள்ளம்
இரங்கிடும் போதும்

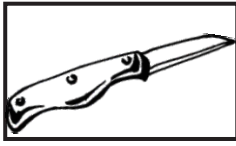
..... - மாந்தர்

உறவு கொள்வர் அப்பா

(2 x 2 = 4 புள்ளி)

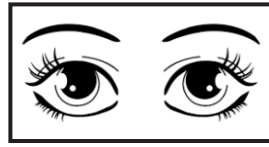
11.அ) பின்வரும் உருக்களின் பெயரை ஆங்கில எழுத்துக்களில் எழுதுக.

I.



.....

ii.



.....

(2 x 1 = 2 புள்ளி)

II. பின்வரும் வாக்கியத்தின் கருத்தினை ஆங்கிலத்திற்கு மாற்றி ஆங்கில எழுத்துக்களில் எழுதுக.
உன்னால் எனக்கு உதவ முடியுமா?

(1 x 2 = 2 புள்ளி)

12.அ) பின்வரும் தமிழ்ச் சொற்களுக்கான சிங்களச் சொற்களை அவற்றின் உச்சரிப்பில் தமிழில் எழுதுக.

i. சோறு :-

ii. பதினைந்து :-


(2 x 1 = 2 புள்ளி)

ஆ) பின்வரும் சிங்கள வாக்கியத்தின் கருத்தைத் தமிழில் எழுத்துக்களில் எழுதுக.

1. பஸ் எக்க ஆவா.

(1 x 2 = 2 புள்ளி)

13. பின்வரும் படத்தினை அவதானித்து ஐந்து சொற்களுக்குக் குறையாத எழுவாய் பயனிலைத் தொடர்புகள் சரியாக அமையக் கூடியவாறு முன்று வாக்கியங்கள் எழுதுக.



1.

.....

2.
.....

3.
.....

(3 x 2 = 6 புள்ளிகள்)

14.1. 16 070 என்பதை சொற்களில் எழுதுக.

2.

6	
3	5

3	4
	2

 மேலுள்ள இரண்டு கட்டங்களில் இருந்தும் ஆக்கக் கூடிய மிகப் பெரிய எண்களுக்கிடையிலான வித்தியாசம் யாது?


.....

3. ஒன்றிற்கும் ஐந்திற்கும் இடைப்பட்ட இலக்கங்களைக் கூட்டி வரும் விடையை உரோம எண்ணில் எழுதுக.

4. அடுத்துவரும் எண்ணை எழுதுக.

i. 7960, 7975, 7990,

ii. 4000, 3500, 3000,

5.  இவ்வருவில் உள்ள செங்கோணம் அல்லாத கோணங்களின் எண்ணிக்கை யாது?

.....


6. i. கூட்டுக. $\frac{2}{5} + \frac{1}{3}$

ii. $1\frac{3}{10}$ தசமத்தில் எழுதுக.

7. 1 மணித்தியாலம் 45 நிமிடங்கள் நடைபெற்ற உதைபந்தாட்டப் போட்டியொன்று பி.ப 5.00 மணிக்கு முடிவடைந்தது.

i. போட்டி முடிவடைந்த நேரத்தை நியம நேரமாக மாற்றி எழுதுக.

ii. போட்டி ஆரம்பமான நேரம் யாது?

8.  நிறநீட்டப்பட்ட பகுதியின் பரப்பளவு 1 சதுர சென்ரிமீற்றர் எனின் முழு உருவின் சுற்றளவு யாது?

.....

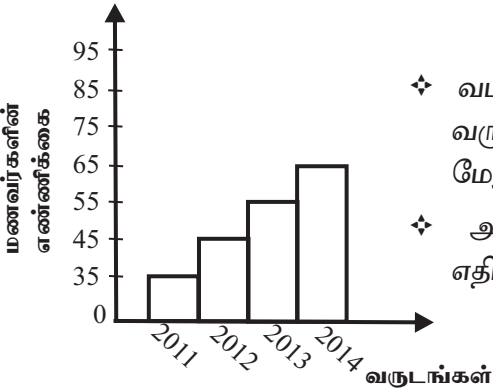
9. 90l கொள்ளக் கூடிய பாத்திரம் ஒன்றில் $\frac{2}{3}$ பங்கு நீர் உள்ளது. பாத்திரத்தை முழுமையாக நிரப்புவதற்கு 10l கொள்கலனால் எத்தனை தடவை நீர் ஊற்ற வேண்டும்?

10. 400g பருப்பின் விலை ரூபா 28.00 எனின் 750g பருப்பின் விலை யாது?

.....

11. 4 மனிதர்கள் 2 நாட்களில் செய்து முடிக்கும் வேலையை 8 மனிதர்கள் எத்தனை மணித்தியாலங்களில் செய்து முடிப்பர்?

12. 4 சவர்க்காரக்கட்டிகளின் நிறை 160g எனின் 1 டசின் சவர்க்காரக் கட்டிகளின் நிறை யாது?



13. ✧ வடக்கு மாகாணத்திலுள்ள பாடசாலை ஒன்றில் ஒவ்வொரு வருடமும் சித்தியடையும் மாணவர்களின் எண்ணிக்கையை மேலுள்ள வரைபடம் காட்டுகின்றது.
✧ அப்பாடசாலையில் இவ்வருடம் சித்தியடைவார்கள் என எதிர்பார்க்கப்படும் மாணவர்களின் எண்ணிக்கை யாது?

.....

14. ஒரேமாதிரியான 04 கம்பத்துண்டங்களைப் பொருத்துவதற்கு ரூபா 51.00 செலவாகின்றது எனின் அவ்வாறான இரண்டு கம்பத்துண்டங்களைப் பொருத்துவதற்குத் தேவையான பணம் எவ்வளவு?

.....

15. ஒரு வேலையைச் செய்து முடிக்க 2 வாரங்களும் 2 நாட்களும் எடுத்தன. இன்னொரு வேலையைச் செய்து முடிக்க 1 வாரமும் 2 நாட்களும் எடுத்தன எனின் இரண்டு வேலைகளையும் செய்து முடித்த காலத்தை நாட்களில் எழுதுக.

..... (2 x 15 = 30 புள்ளி)

16 தொடக்கம் 45 வரையுள்ள ஒவ்வொரு வினாவிற்கும் பொருத்தமான விடையைத் தரப்பட்டுள்ள விடைகளிலிருந்து தெரிந்தெடுத்து அதன்கீழ்க் கோடிடுக.

16. இவ் வருட ஒலிம்பிக் போட்டி நடத்தத் திட்டமிட்டுள்ள நாடு.

1. அமெரிக்கா 2. பிறேசில் 3. யப்பான் 4. இந்தியா

17. நீரில் வாழ்க்கையை ஆரம்பிக்கும் பிராணிகளின் கூட்டம்.

1. தவளை, தேரை, நுளம்பு 2. முதலை, தவளை, பாம்பு
3. நுளம்பு, ஆமை, உடும்பு 4. ஆமை, முதலை, தவளை

18. இரவு வேளைகளில் ஒலி எழுப்பும் பிராணி

1. ஆமை 2. கிளி 3. ஆந்தை 4. வாத்து

19. நவலங்கா சமயப் பாடசாலையை ஆரம்பித்தவர்

1. ரீ.பி.ஜாயா 2. வண.எஸ்.மஹிந்த 3. ஜயதிலக்க 4. C.W.W.கன்னங்கரா

20.  அருகேயுள்ள சூரிய நமஸ்காரம் எத்தனையாவது படிநிலையாகும்?

1. 3ம் படிநிலை 2. 6ம் படிநிலை 3. 9ம் படிநிலை 4. 5ம் படிநிலை

21.



இக் குறியீடு குறிப்பது

1. பேருந்துத் தரிப்பிடம்.
2. வாகனம் நிறுத்துமிடம்.
3. நிறுத்துக.
4. பாரவூர்தி நிறுத்துமிடம்.

22. பலகையொன்றை மட்டமாகச் சீவுவதற்குப் பொருத்தமான உபகரணம்.

1. வாள்
2. உளி
3. சீவுளி
4. துறப்பணம்

23. உடல் வளர்ச்சிக்குப் பயன்படாத உணவு

1. இறைச்சி
2. கத்தரி
3. பால்
4. முட்டை

24. அண்மைக்காலத்தில் களனி கங்கையின் பெருக்கெடுப்பால் அதிகம் பாதிக்கப்பட்ட மாகாணம் எது?

1. வடக்கு மாகாணம்
2. மேல் மாகாணம்
3. வடமத்திய மாகாணம்
4. கிழக்கு மாகாணம்

25. இவ்வாண்டு அறிமுகப்படுத்தப்பட்டுள்ள தேசிய அடையாள அட்டையிலுள்ள இலக்கங்களின் எண்ணிக்கை.

1. 11
2. 10
3. 12
4. 15

26. எல்லே விளையாட்டின் ஓர் அணியில் விளையாடும் வீரர்களின் ஆகக் குறைந்த எண்ணிக்கை.

1. 10
2. 16
3. 07
4. 12

27. “சிலோன் நசனல் ரிவீவ்” (Ceylon National Review) எனும் சஞ்சிகையின் பிரதம ஆசிரியர்

1. ஆனந்த சமரக்கோன்
2. கலாநிதி ஆனந்த குமாரசுவாமி
3. வண.எஸ்.மஹிந்த
4. சேர்.டி.பி.ஐயதிலக்க

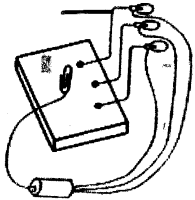
28. கலாவாயியைக் கட்டுவித்த அரசன்

1. தாதுசேனன்
2. மகாசேனன்
3. பண்டுகாபயன்
4. பராக்கிரமபாகு

29. “ஏலந்தண்டு ராமனாதா எவ்வகைப் பாடலாகும்?

1. அரிவி வெட்டும் பாடல்
2. தோணிப் பாடல்
3. மலையகப் பாடல்
4. சும்மிப் பாடல்

30.



இவ்வுபகரணம் எதனுடைய மாதிரி?

1. ஒளிச்சமிக்கை
2. மின்மானி
3. மின்குள்
4. மின்காந்தம்

31. பழைய கற்பாலம் அமைந்துள்ள மாவட்டம்

1. அநுராதபுரம்
2. பொலன்னறுவை
3. கண்டி
4. காலி


32. கத்தியொன்றைப் பரிமாறும் போது கொடுப்பவர் பிடிக்க வேண்டிய கத்தியின் பகுதி

1. முனைப்பகுதி
2. பிடிப்பகுதி
3. அடிப்பகுதி
4. நடுப்பகுதி

33. எமக்கு இலவச சேவையைத் தருகின்ற நிறுவனங்களில் ஒன்று.

1. வைத்தியசாலை
2. சதொச
3. ஓசசல
4. மின்சார சபை

34.



இக் குறியீடு உணர்த்தும் கருத்து.

1. மேலே பார்க்கவும்
2. நேராகச் செல்லவும்
3. இப்பக்கம் மேலே
4. கீழிருந்து மேல்

35. தொலைபேசிக் கட்டணத்தைச் செலுத்த முடியாத இடம்.

1. மக்கள் வங்கிக்கிளை
2. தபால் நிலையம்
3. சிறிலங்கா டெலிகொம்
4. பிரதேச சபை

36. பின்வரும் விளையாட்டுக்களில் கிராமிய விளையாட்டு எது?

1. கரப்பந்தாட்டம்
2. வலைப்பந்து
3. பல்லாங்குழி
4. உதைபந்து

37. முதன் முதல் அநுராதபுரத்தை தலைநகராகக் கொண்டு ஆட்சி புரிந்த மன்னன்.

1. வசபன்
2. பண்டுகாபயன்
3. தேவநம்பியதீசன்
4. துட்டகைமுனு

38. திஸ்ஸ வாவியைக் கட்டுவித்த அரசன்

1. தேவநம்பியதீசன்
2. மகாசேனன்
3. பராக்கிரமபாகு
4. எல்லாளன்

39. ஜின் கங்கை கடலுடன் கலக்கும் நகரம் எது?

1. திருகோணமலை
2. மட்டக்களப்பு
3. கதிர்காமம்
4. காலி

40.



உருவில் காணப்படும் உடுத்தொகுதியின் பெயர்

1. கார்த்திகை
2. வேட்டைக்காரன்
3. ஓராயன்
4. தேள்

41. கொல்லன் கம்மாலையில் நெருப்பை எரியச் செய்வதற்குப் பயன்படும் காற்றைப் பெற உதவும் பொருள்.

1. சுத்தியல்
2. பட்டறைக்கல்
3. துருத்தி
4. சாவணம்

42. வேரின் மூலம் தன் இனத்தைப் பெருக்கும் தாவரம்

1. கத்தரி
2. தென்னை
3. கறிவேப்பிலை
4. முருங்கை

43. “வுளு” சடங்குடன் தொடர்புடைய இனத்தவர்

1. முஸ்லிம்கள்
2. பறங்கியர்
3. தமிழர்
4. முட்டை

44. எமது உடலில் உள்ள நீர் வெளியேறும் சந்தர்ப்பம்.

1. உட்கவாசம்
2. வெளிச்சவாசம்
3. உறங்கும்போது
4. எழுதும்போது

45. தேசியக்கொடியின் பச்சைநிறக் கீலம் குறிப்பது.

1. தமிழர்
2. முஸ்லிம்
3. பறங்கியர்
4. சிங்களவர்

(1 x 3 = 30 புள்ளிகள்)

