

AL/2024/21/T-I

© 2024 by the author. All rights reserved. / முழுப் பதிப்புரிமையுடையது / All Rights Reserved

இலங்கைப் பரீட்சைத் திணைக்களம் இலங்கைப் பரீட்சைத் திணைக்களம் இலங்கைப் பரீட்சைத் திணைக்களம் இலங்கைப் பரீட்சைத் திணைக்களம் இலங்கைப் பரீட்சைத் திணைக்களம்
 Department of Examinations, Sri Lanka Department of Examinations, Sri Lanka Department of Examinations, Sri Lanka Department of Examinations, Sri Lanka Department of Examinations, Sri Lanka
 இலங்கைப் பரீட்சைத் திணைக்களம் இலங்கைப் பரீட்சைத் திணைக்களம் இலங்கைப் பரீட்சைத் திணைக்களம் இலங்கைப் பரீட்சைத் திணைக்களம் இலங்கைப் பரீட்சைத் திணைக்களம்
 Department of Examinations, Sri Lanka Department of Examinations, Sri Lanka Department of Examinations, Sri Lanka Department of Examinations, Sri Lanka Department of Examinations, Sri Lanka

අධ්‍යයන පොදු සහතික පත්‍ර (උසස් පෙළ) විභාගය, 2024
 கல்விப் பொதுத் தராதரப் பத்திர (உயர் தர)ப் பரீட்சை, 2024
 General Certificate of Education (Adv. Level) Examination, 2024

ආර්ථික විද්‍යාව I
 பொருளியல் I
 Economics I

21 T I

පැය දෙකයි
 இரண்டு மணித்தியாலம்
 Two hours

அறிவுறுத்தல்கள் :

- * எல்லா வினாக்களுக்கும் விடை எழுதுக.
- * விடைத்தாளில் தரப்பட்டுள்ள இடத்தில் உமது சுட்டெண்ணை எழுதுக.
- * விடைத்தாளின் மறுபக்கத்தில் தரப்பட்டுள்ள அறிவுறுத்தல்களைக் கவனமாக வாசித்துப் பின்பற்றுக.
- * 1 தொடக்கம் 50 வரையுள்ள வினாக்கள் ஒவ்வொன்றுக்கும் (1), (2), (3), (4), (5) என இலக்கமிடப்பட்ட விடைகளில் சரியான அல்லது மிகப் பொருத்தமான விடையைத் தெரிந்தெடுத்து, அதனைக் குறித்து நிற்கும் இலக்கத்தைத் தரப்பட்டுள்ள அறிவுறுத்தல்களுக்கு அமைய விடைத்தாளில் புள்ளடி (x) இடுவதன் மூலம் காட்டுக.

1. நேர்ப்பொருளியலுக்கும் நியமப்பொருளியலுக்கும் இடையிலான அடிப்படை வேறுபாடாவது
 - (1) நியமப்பொருளியல் விவரண ரீதியான ஆய்வை வழங்கும் அதேவேளை நேர்ப்பொருளியல் கொள்கைத் தீர்வுகளை வழங்கும்.
 - (2) நேர்ப்பொருளியல் காரணங்களின் அடிப்படையிலாகும் அதேவேளை நியமப்பொருளியல் மதிப்புகளின் அடிப்படையிலானது.
 - (3) நியமப்பொருளியலானது நடைமுறைச் சாட்சியங்களின் அடிப்படையிலான அதேவேளை நேர்ப்பொருளியலானது ஆத்மார்த்தமான கருத்துக்களை அடிப்படையாகக் கொண்டது.
 - (4) நேர்ப்பொருளியல் பெறுமானத் தீர்ப்புகளில் தங்கியுள்ள அதேவேளை நியமப்பொருளியல் விடயங்களை அடிப்படையாகக் கொண்டது.
 - (5) நேர்ப்பொருளியல் விழுமியங்களின் மீது கவனம் செலுத்தும் அதேவேளை நியமப்பொருளியலானது பரிசோதனை செய்யக்கூடிய கருதுகோள்களுடன் தொடர்புடையது.
2. பொருளியலில் 'மூலதனம்' என்ற எண்ணக்கருவை சிறப்பாக விளக்கும் கூற்று பின்வருவனவற்றில் எது?
 - (1) மூலதனம் என்பது உற்பத்திச் செயன்முறையில் பயன்படுத்தப்படும் மனித உழைப்பு மற்றும் புத்தாக்கத்தை பிரதிநிதித்துவப்படுத்துகிறது.
 - (2) மூலதனம் என்பது தனிநபர்களால் மேற்கொள்ளப்படும் ஏதேனும் நிதி முதலீடுகளைக் குறிக்கும்.
 - (3) உற்பத்தியில் பயன்படுத்தப்படும் இயந்திரங்கள், கட்டடங்கள் போன்ற தொட்டுணரக்கூடிய சொத்துகளை மாத்திரமே மூலதனம் கருதும்.
 - (4) மூலதனம் என்பது உற்பத்தியை நிதிப்படுத்துவதற்குப் பயன்படும் நிதி வளங்களைக் கருதும்.
 - (5) மூலதனம் என்பது உற்பத்தி செய்யப்பட்ட உற்பத்திக் காரணிகளைக் கருதும்.
3. உற்பத்தி இயல்தகவு வளையியின் மீதுள்ள ஒரு புள்ளியிலிருந்து மற்றொரு புள்ளியை நோக்கிய அசைவானது குறிப்பிடுவது
 - (1) அமையச் செலவிலோ அல்லது உற்பத்தி வினைத்திறனிலோ மாற்றங்கள் ஏற்படாது என்பதாகும்.
 - (2) அமையச் செலவில் ஒரு மாற்றம் ஏற்படும் ஆனால் உற்பத்தி வினைத்திறனில் மாற்றம் ஏற்படாது என்பதாகும்.
 - (3) உற்பத்தி வினைத்திறனில் மாற்றம் ஏற்படும் ஆனால் அமையச் செலவில் மாற்றம் ஏற்படாது என்பதாகும்.
 - (4) அமையச் செலவிலோ அல்லது ஒதுக்கீட்டு வினைத்திறனிலோ மாற்றம் ஏற்படாது என்பதாகும்.
 - (5) உற்பத்தி வினைத்திறனில் ஒரு மாற்றம் ஏற்படும் ஆனால் ஒதுக்கீட்டு வினைத்திறனில் மாற்றம் ஏற்படாது என்பதாகும்.
4. சோசலிசப் பொருளாதார முறைமையொன்றின் பிரதான பண்பாகக் கருதப்படுவது
 - (1) இலாப உச்சப்படுத்தலைப் பிரதான குறிக்கோளாகக் கொண்டமை
 - (2) எல்லா உற்பத்திக் காரணிகளும் தனியார் உடைமையாக உள்ளமை
 - (3) பிரதான கைத்தொழில்களும் வளங்களும் பொதுத் துறையின் உடமையாகக் காணப்படுகின்றமை
 - (4) பொருளாதாரத்தில் அரசாங்கத் தலையீடு இழிவு மட்டத்தில் காணப்படுகின்றமை
 - (5) பொருளாதாரத் தீர்மானங்களில் அரசாங்கத்திற்கு எவ்வித பங்கும் இல்லாதிருத்தல்

5. நிரம்பல் வளையியின் வழியே ஒரு அசைவினை ஏற்படுத்தக்கூடிய ஒரு காரணி
- (1) உற்பத்திச் செலவில் ஏற்படும் ஒரு மாற்றம்
 - (2) குறித்த பொருளின் விலையில் ஏற்படும் ஒரு மாற்றம்
 - (3) நுகர்வோன் வருமானத்தில் ஏற்படும் ஒரு மாற்றம்
 - (4) தொழில்நுட்பத்தில் ஏற்படும் ஒரு மாற்றம்
 - (5) நிரம்பலாளர்களின் எண்ணிக்கையில் ஏற்படும் ஒரு மாற்றம்
6. பின்வருவனவற்றுள் ஒன்றைத்தவிர ஏனையவை யாவும் சாதாரண பொருளொன்றின் சந்தைக் கேள்வி வளையியில் வலப்புற நகர்வை ஏற்படுத்தும். அவ்வாறு ஏற்படுத்தாத காரணி
- (1) ஒரு பதிலீட்டுப் பொருளின் விலையில் ஏற்படும் ஓர் அதிகரிப்பு
 - (2) நுகர்வோர் வருமானத்தில் ஏற்படும் ஓர் அதிகரிப்பு
 - (3) ஒரு நிரப்புப் பொருளின் விலையில் ஏற்படும் ஒரு வீழ்ச்சி
 - (4) குறித்த பொருளின் விலையில் ஏற்படும் ஒரு வீழ்ச்சி
 - (5) சந்தையில் உள்ள நுகர்வோரின் எண்ணிக்கையில் ஏற்படும் ஓர் அதிகரிப்பு
7. ஏனையன மாறா நிலையில், இழிவுப் பொருளொன்றின் விலை வீழ்ச்சியடையும் போது
- (1) வருமான விளைவானது பதிலீட்டு விளைவை விஞ்சிச் செல்வதால் நுகர்வோர் கேள்வியை அதிகரிப்பர்.
 - (2) நுகர்வோர் கேள்வியைக் குறைப்பர் ஏனெனில் அப்பொருள் ஒரு இழிவுப் பொருளாகும்.
 - (3) நுகர்வோர் கேள்வியை அதிகரிப்பர் ஏனெனில் பதிலீட்டு விளைவும் வருமான விளைவும் ஒன்றையொன்று பலப்படுத்தும்.
 - (4) நுகர்வோர் கேள்வியைக் குறைப்பர் ஏனெனில் பதிலீட்டு விளைவு எதிர்க்கணியமாகும்.
 - (5) நுகர்வோர் கேள்வியை அதிகரிப்பர் ஏனெனில் பதிலீட்டு விளைவானது வருமான விளைவை விஞ்சிச் செல்லும்.
8. X மற்றும் Y ஆகியன பதிலீட்டுப் பொருள்களெனக் கொள்க. Y பொருளின் நிரம்பல் அதிகரிக்கும் போது X பொருளின் சமநிலை விலை மற்றும் தொகையின் மீது ஏற்படும் விளைவு யாது?

	X பொருளின் சமநிலை விலை	X பொருளின் சமநிலைத் தொகை
(1)	அதிகரிப்பு	வீழ்ச்சி
(2)	வீழ்ச்சி	வீழ்ச்சி
(3)	அதிகரிப்பு	அதிகரிப்பு
(4)	வீழ்ச்சி	அதிகரிப்பு
(5)	அதிகரிப்பு	மாறாது

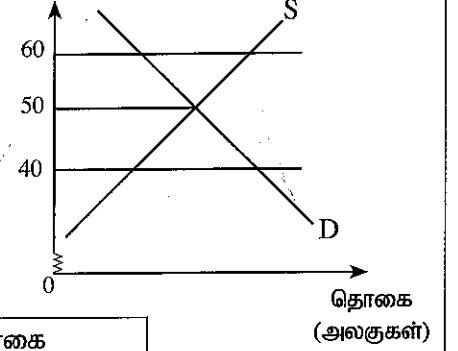
9. ஒரு போட்டிச் சந்தையில் விற்பனை செய்யப்படும் X பொருளின் உற்பத்தியில் ஒரு புதிய தொழில்நுட்பம் அறிமுகப்படுத்தப்பட்டது எனக் கருதுக. புதிய தொழில்நுட்பம் X பொருளின் உற்பத்திச் செலவைக் குறைக்குமாயின் நுகர்வோர் மற்றும் உற்பத்தியாளன் மிகை மீது பெரும்பாலும் ஏற்படத்தக்க விளைவு யாது?
- (1) உற்பத்தியாளன் மிகை அதிகரிக்கும் ஆனால் நுகர்வோர் மிகை குறைவடையும்.
 - (2) நுகர்வோர் மிகை அதிகரிக்கும் ஆனால் உற்பத்தியாளன் மிகை குறைவடையும்.
 - (3) நுகர்வோர் மிகையும் உற்பத்தியாளன் மிகையும் அதிகரிக்கும்.
 - (4) நுகர்வோர் மிகையும் உற்பத்தியாளன் மிகையும் வீழ்ச்சியடையும்.
 - (5) நுகர்வோர் மிகை அதிகரிக்கும் அதேவேளை உற்பத்தியாளன் மிகை மாறாதிருக்கும்.
10. ஒரு பொருளின் விலைக்கேள்வி நெகிழ்ச்சி பொதுவாக உயர்வாக இருப்பது அப்பொருள்
- (1) நுகர்வோர் செலவீட்டில் ஒரு சிறிய பகுதியாகவும் ஏனைய பொருள்களின் ஒரு நிரப்புப் பொருளாகவும் உள்ள போதாகும்.
 - (2) அத்தியாவசியப் பொருளாக இருப்பதுடன் இலகுவில் பழுதாகும் பொருளாகவும் உள்ள போதாகும்.
 - (3) நுகர்வோர் செலவீட்டில் ஒரு சிறிய பகுதியாகவும் ஏனைய பொருள்களின் ஒரு பதிலீடாகவும் உள்ள போதாகும்.
 - (4) நுகர்வோர் செலவீட்டில் ஒரு பெரிய பகுதியாகவும் ஏனைய பொருள்களின் ஒரு பதிலீடாகவும் உள்ள போதாகும்.
 - (5) இழிவுப் பொருளாகவும் ஏனைய பொருள்களின் ஒரு நிரப்புப் பொருளாகவும் உள்ள போதாகும்.

11. குறுக்கு விலைக்கேள்வி நெகிழ்ச்சியானது

- (1) ஒரு பொருள் அத்தியாவசியமானதா அல்லது இழிவுப்பொருளா என்பதைச் சுட்டிக்காட்டும்.
- (2) குறித்த இரு பொருள்களும் நெருங்கிய தொடர்புபட்டிருப்பின் பூச்சியத்தை அண்மிய பெறுமதியைக் கொண்டிருக்கும்.
- (3) குறித்த இரு பொருள்களும் பதிலீடுகளாயின் பூச்சியத்தை விடக் கூடிய பெறுமதியைக் கொண்டிருக்கும்.
- (4) கேள்வி விதியின் காரணமாக எப்போதும் எதிர்க்கணியமாக இருக்கும்.
- (5) குறித்த இரு பொருள்களும் நிரப்பீடுகளாயின் பூச்சியத்தை விடக் கூடிய பெறுமதியைக் கொண்டிருக்கும்.

12. கடுமையாக ஒழுங்குறுத்தப்பட்ட பொருளாதாரம் ஒன்று சந்தைப் பொருளாதாரம் ஒன்றை நோக்கிச் செல்லத் தீர்மானிப்பதாகவும், அரசாங்கம் சந்தை விலைக் கட்டுப்பாடுகளை நீக்கியதாகவும் கொள்க. வரைபடமானது அரசாங்கம் ஆரம்பத்தில் விதித்திருந்த பயனுறுதிமிக்க உச்சப்பட்டச் விலையைக் கொண்டிருந்த ஒரு சந்தையை காட்டுகிறது. அரசாங்கம் உச்ச விலையை நீக்கும்போது விலை மற்றும் தொகையின் மீது ஏற்படும் விளைவு யாது?

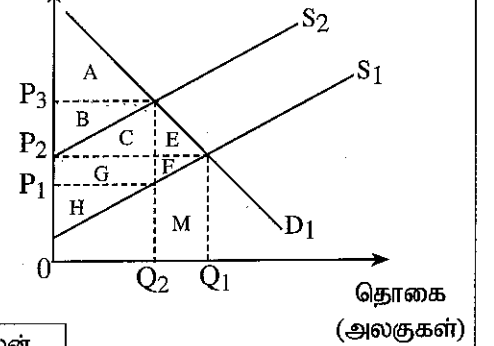
விலை (ரூபா)



	விலை	தொகை
(1)	ரூபா 60 இலிருந்து ரூபா 40 ஆகக் குறைதல்	பற்றாக்குறை அகலும்
(2)	ரூபா 50 இலிருந்து ரூபா 40 ஆகக் குறைதல்	மிகை அகலும்
(3)	ரூபா 40 இலிருந்து ரூபா 50 ஆகக் அதிகரித்தல்	பற்றாக்குறை அகலும்
(4)	ரூபா 50 இலிருந்து ரூபா 40 ஆகக் குறைதல்	பற்றாக்குறை அகலும்
(5)	ரூபா 50 இலிருந்து ரூபா 60 ஆகக் அதிகரித்தல்	மிகை அகலும்

13. வரைபடம் சீனிக்கான D_1 கேள்வி வளையியையும் S_1 ஆரம்ப நிரம்பல் வளையியையும் காட்டுகிறது. அரசாங்கம் சீனியின் மீது ஒரு விசேட வரியை விதிப்பதால் நிரம்பல் வளையி S_2 வரை நகர்கிறது எனக் கொள்க. வரைபடத்தில் உள்ள எப்பகுதிகள் அரசாங்கத்தின் வரி வருவாயையும், புதிய உற்பத்தியாளன் மிகையையும், மீளமுடியா நலன் இழப்பையும் (deadweight loss) அளவிட்டுக் காட்டுகின்றன?

விலை (ரூபா)



	வரி வருவாய்	புதிய உற்பத்தியாளன் மிகை	மீளமுடியா நலன் இழப்பு
(1)	B + C + G	H	A + H
(2)	E + F	F + G + H	E + F
(3)	B + C	C + G + H	E + F + M
(4)	B + C + G	H	E + F
(5)	B + C + G	F + G + H	E + F + M

14. அரசாங்கம் நுகர்வோருக்கு அரிசியின் விலையை அதிகரிக்காமல் நெல் விவசாயிகளின் வருமானத்தை அதிகரிக்க விரும்புகிறது எனக் கொள்க. அரசாங்கத்தின் நோக்கத்தை அடைய மிகப் பொருத்தமான கொள்கையாவது,

- (1) அரசாங்கம் அரிசிக் கையிருப்புகளை சந்தைக்கு வழங்குதல்.
- (2) அரிசியின் சந்தை விலைக்கு மேலாக உத்தரவாத விலை ஒன்றை நிர்ணயித்து விற்கப்படாதுள்ள வெளியீட்டை அரசாங்கம் கொள்வனவு செய்ய இணங்குதல்.
- (3) அரிசியின் சந்தை விலைக்குக் கீழாக குறைந்தபட்ச விலை ஒன்றை நிர்ணயித்து விற்கப்படாதுள்ள வெளியீட்டை அரசாங்கம் கொள்வனவு செய்ய இணங்குதல்.
- (4) அரிசியின் சந்தை விலைக்கு கீழே உச்சவிலை ஒன்றை அறிமுகம் செய்தல்.
- (5) நெல் விவசாயிகளுக்கு மானியக் கொடுப்பனவு ஒன்றை வழங்குதல்.

15. பின்வரும் எக் கைத்தொழில் பண்புகளின் சேர்மானம் தனியுரிமைப் போட்டிச் சந்தையைக் காட்டுகிறது?

	பிரவேச சுதந்திரம்	பொருளின் தன்மை	நிறுவனத்தின் கேள்வி வளையி
(1)	உயர் தடைகள்	ஒரினத்தன்மை	கீழ்நோக்கி சரியும்
(2)	உயர் தடைகள்	வேறாக்கம் செய்தவை	கீழ்நோக்கி சரியும்
(3)	குறைந்த தடைகள்	ஒரினத்தன்மை	கிடையானது
(4)	குறைந்த தடைகள்	வேறாக்கம் செய்தவை	கீழ்நோக்கி சரியும்
(5)	உயர் தடைகள்	தனித்துவமானது	கிடையானது

16. குறுங்காலத்தில் ஒரு நிறைபோட்டி நிறுவனம் பூச்சிய பொருளாதார மிகையை உழைப்பது

- (1) விலை எல்லைச் செலவுக்கு சமப்படும் போதாகும்.
- (2) மொத்த வருவாய் மொத்த மாறுஞ் செலவுக்கு சமப்படும் போதாகும்.
- (3) எல்லைச் செலவு சராசரி மாறும் செலவுக்கு சமப்படும் போதாகும்.
- (4) எல்லை வருவாய் சராசரி நிலையான செலவுக்கு சமப்படும் போதாகும்.
- (5) விலை சராசரி மொத்தச் செலவுக்கு சமப்படும் போதாகும்.

17. அளவுத்திட்டச் சிக்கனமலிகளை அனுபவிக்கும் ஒரு நிறுவனம் எதிர்நோக்குவது

- (1) குறுங்காலத்தில் எல்லைச் செலவு அதிகரிப்பாகும்.
- (2) வெளியீடு அதிகரிக்கும்போது நீண்டகால சராசரி மொத்தச் செலவு அதிகரிப்பாகும்.
- (3) நீண்டகாலத்தில் சராசரி மொத்தச் செலவு வீழ்ச்சியாகும்.
- (4) உள்நீடுகளின் அதிகரிப்பை விட வெளியீட்டில் ஒரு கூடிய அதிகரிப்பாகும்.
- (5) வெளியீட்டு மட்டம் எதுவாயினும் நீண்டகால சராசரி மொத்த செலவு நிலையாக இருப்பதாகும்.

18. பின்வரும் அட்டவணை வெவ்வேறு வெளியீட்டு மட்டங்களில் ஒரு நிறுவனத்தின் மொத்தச் செலவையும் எல்லைச் செலவையும் காட்டுகிறது.

வெளியீட்டு மட்டம்	மொத்தச் செலவு (ரூபா)	எல்லைச் செலவு (ரூபா)
1	250	50
2	295	45
3	330	35
4	375	45
5	425	50

5 வெளியீட்டு அலகுகளை உற்பத்தி செய்வதற்கான சராசரி நிலையான செலவு யாது?

- (1) ரூபா 300
- (2) ரூபா 200
- (3) ரூபா 150
- (4) ரூபா 60
- (5) ரூபா 40

19. பெறுமதி சேர்க்கை முறையின் படி, மொத்த உள்நாட்டு உற்பத்தி அளவிடப்படுவது

- (1) வெளியீட்டின் பெறுமதியிலிருந்து இடைநிலைப் பொருள்களின் பெறுமதியைக் கழிப்பதன் மூலமாகும்.
- (2) எல்லா முடிவுப் பொருள்கள் மற்றும் சேவைகளின் பெறுமதியைக் கூட்டுவதன் மூலமாகும்.
- (3) பொருளாதாரத்தால் உருவாக்கப்பட்ட மொத்த வருமானங்களைக் கூட்டுவதன் மூலமாகும்.
- (4) உற்பத்தியில் பயன்படுத்தப்பட்ட எல்லா இடைநிலைப் பொருள்களின் பெறுமதிகளையும் கூட்டுவதன் மூலமாகும்.
- (5) வெளியீட்டின் மொத்தப் பெறுமதியிலிருந்து இறக்குமதிகளின் பெறுமதியைக் கழிப்பதன் மூலமாகும்.

20. முறைசாரா பொருளாதாரம் (informal economy) என்பதனால் கருதப்படுவது

- (1) சட்ட விரோதமானதும் அரசாங்கத்திடமிருந்து மறைக்கப்படுவதுமான நடவடிக்கைகளாகும்.
- (2) அரசாங்கத்தால் கண்காணிக்கப்படாத அல்லது ஒழுங்குறுத்தப்படாத பொருளாதார நடவடிக்கைகளாகும்.
- (3) சிறு வியாபாரிகளால் மேற்கொள்ளப்படும் எல்லாப் பொருளாதார நடவடிக்கைகளாகும்.
- (4) பெரிய கூட்டுத்தாபனங்கள் மற்றும் இலாப நோக்கற்ற நிறுவனங்களுக்கிடையில் நடைபெறும் பொருளாதார நடவடிக்கைகளாகும்.
- (5) பொருளாதாரத்தின் வாழ்வாதார விவசாயத் துறையாகும்.

21. ஒரு பொருளாதாரத்தின் மொத்தத் தேசிய செலவிடத்தக்க வருமானம் மொத்த தேசிய வருமானத்தை விட உயர்வாக இருப்பதனால் பிரதிபலிக்கப்படுவது

- (1) நாடு வர்த்தக நிலுவைக் குறை நிலையை அனுபவிக்கிறது என்பதாகும்.
- (2) நாடு வர்த்தக மிகை நிலையை அனுபவிக்கிறது என்பதாகும்.
- (3) நாட்டின் உள்நாட்டு உற்பத்தி அதன் நுகர்வை விஞ்சுகின்றது என்பதாகும்.
- (4) நாடு முதலீட்டை விட கூடுதலாக சேமிக்கிறது என்பதாகும்.
- (5) நாட்டின் தேறிய வெளிநாட்டு மாற்றல்கள் நேர்க்கணியமாக உள்ளது என்பதாகும்.

22. ஒரு கருதுகோள் ரீதியான பொருளாதாரத்தின் தெரிவுசெய்யப்பட்ட சில தேசிய வருமானக் கணக்கீட்டு தரவுகள் கீழே தரப்படுகின்றன (இலக்கங்கள் பில்லியன் ரூபாவில்).

வகை	பெறுமதி	வகை	பெறுமதி
ஊழியர்களின் நட்டஈடுகள்	600	உற்பத்தி மீதான மானியங்கள் கழித்த ஏனைய வரிகள்	50
மொத்த செயல்பாட்டு மிகை	800	வெளிநாட்டிலிருந்தான தேறிய முதலாந்தர வருமானம்	-20
மொத்த கலப்பு வருமானம்	850	உற்பத்திகள், சேவைகள் மீதான மானியங்கள் கழித்த ஏனைய வரிகள்	120
நிலையான மூலதன நுகர்வு	150		

மொத்த உள்நாட்டு உற்பத்தி மற்றும் மொத்தத் தேசிய வருமானம் என்பவற்றின் பெறுமானங்கள் யாவை?

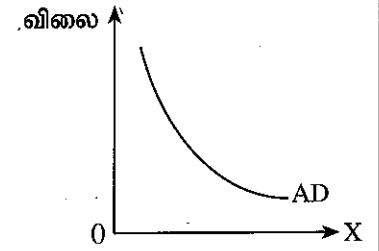
	மொத்த உள்நாட்டு உற்பத்தி	மொத்தத் தேசிய வருமானம்
(1)	2 420	2 400
(2)	2 270	2 250
(3)	2 420	2 440
(4)	2 570	2 550
(5)	2 250	2 230

23. அரசாங்க நடவடிக்கைகள் இல்லாத மூடப்பட்ட பொருளாதாரம் ஒன்றில் ரூபா 200 மில்லியன் இனால் முதலீடு அதிகரிப்பதன் விளைவாக நுகர்வில் ரூபா 800 மில்லியன் அதிகரிப்பு ஏற்படுத்துகிறது. இப்பொருளாதாரத்தின் எல்லை நுகர்வு நாட்டம் யாது?

- (1) 0.2 (2) 0.25 (3) 0.75 (4) 0.8 (5) 0.9

24. இவ்வரைபடமானது ஒரு மொத்தக் கேள்வி வளையியைக் காட்டுகிறது. இதில் கிடையச்சின் மீது அளவிடப்படுவது எது?

- (1) பெயரளவு தேசிய வருமானம்
(2) பெயரளவு தேசிய வெளியீடு
(3) பெயரளவு செலவிடத்தக்க வருமானம்
(4) மெய் மொத்த உள்நாட்டு உற்பத்தி
(5) சாத்திய மட்ட வெளியீடு



25. மொத்தக் கேள்வி வளையியும் மொத்த நிரம்பல் வளையியும் ஒன்றையொன்று வெட்டிச் செல்லும் புள்ளியில் பொருளாதாரம் சமநிலையடைவதாகக் கருதுக. வரிகள் சம அளவில் அதிகரிக்கப்படாமல் அரசாங்க செலவீட்டில் ஓர் அதிகரிப்பு ஏற்படுமாயின் பெரும்பாலும் குறுங்காலத்தில் ஏற்படத்தக்க விளைவு யாது?

- (1) மொத்தக் கேள்வி வளையி இடப்புறம் நகர்ந்து வேலையின்மை அதிகரிக்கும்.
(2) மொத்தக் கேள்வி வளையி வலப்புறம் நகர்ந்து உயர் வெளியீட்டுக்கும் உயர் தொழில் வாய்ப்புக்கும் இட்டுச் செல்லும்.
(3) மொத்தக் கேள்வி வளையி மாறாதிருக்கும் ஆனால் மொத்த நிரம்பல் வளையி இடப்புறம் நகரும்.
(4) மொத்தக் கேள்வி வளையி வலப்புறம் நகர்ந்து குறைந்த வெளியீட்டிற்கும் குறைந்த தொழில் வாய்ப்புக்கும் இட்டுச் செல்லும்.
(5) மொத்தக் கேள்வி வளையி இடப்புறம் நகர்ந்து குறைந்த விலை மட்டத்திற்கு இட்டுச்செல்லும்.

26. ஒரு வியாபாரி தனது பெட்டகத்தில் இருந்து ரூபா 50 000 ஐ எடுத்து அப்பணத்தை வணிக வங்கியில் வைப்புச் செய்கிறார் எனக் கொள்க. வங்கியிடம் மிகை ஒதுக்குகள் இல்லையெனின் நியதி ஒழுங்குத் தேவை 10% ஆயின், இந்த வைப்பானது வங்கியின் தேவையான ஒதுக்குகளையும் வங்கியின் கடன் வழங்கும் ஆற்றலையும் எவ்வாறு அதிகரிக்கும்?

	அவசியமான ஒதுக்குகள் (ரூபா)	கடன் வழங்கும் ஆற்றல் (ரூபா)
(1)	50 000	40 000
(2)	50 000	50 000
(3)	40 000	5 000
(4)	5 000	45 000
(5)	5 000	500 000

27. பின்வருவனவற்றுள் எக்கூற்று கேள்வித்தூண்டல் பணவீக்கத்தையும் செலவுத்தூண்டல் பணவீக்கத்தையும் சிறப்பாக வேறுபடுத்துகிறது?
- (1) கேள்வித்தூண்டல் பணவீக்கம் மிகை நிரம்பலால் ஏற்படும் அதேவேளை, செலவுத்தூண்டல் பணவீக்கம் மிகைக் கேள்வியால் ஏற்படுகிறது.
 - (2) கேள்வித்தூண்டல் பணவீக்கம் மொத்த நிரம்பல் அதிகரிக்கும் போது ஏற்படும் அதேவேளை, செலவுத்தூண்டல் பணவீக்கம் மொத்தக் கேள்வி குறைவடையும் போது ஏற்படுகிறது.
 - (3) கேள்வித்தூண்டல் பணவீக்கம் கூலி வீத அதிகரிப்பினால் ஏற்படும் அதேவேளை, செலவுத்தூண்டல் பணவீக்கம் பணநிரம்பலின் மிகை அதிகரிப்பினால் ஏற்படுகிறது.
 - (4) கேள்வித்தூண்டல் பணவீக்கம் மொத்தக் கேள்வியின் அதிகரிப்பினால் ஏற்படும் அதேவேளை, செலவுத்தூண்டல் பணவீக்கம் உற்பத்திச் செலவு அதிகரிப்பதனால் ஏற்படுகிறது.
 - (5) கேள்வித்தூண்டல் பணவீக்கம் உயர் தொழில்வாய்ப்பை ஏற்படுத்தும் அதேவேளை, செலவுத்தூண்டல் பணவீக்கம் குறைந்த தொழில்வாய்ப்பை ஏற்படுத்துகிறது.
28. உயர் வலுப் பணம் உள்ளடக்குவது
- (1) பொதுமக்கள் வணிக வங்கிகளில் வைப்புச் செய்துள்ள கால வைப்புக்களையாகும்.
 - (2) உரிமம் பெற்ற வங்கிகளிலும் நிதி நிறுவனங்களிலும் பொதுமக்கள் வைப்புச் செய்துள்ள சேமிப்பு வைப்புக்களையாகும்.
 - (3) பொதுமக்கள் கைவசம் வைத்துள்ள நாணயம் மற்றும் வணிக வங்கிகளின் ஒதுக்குகளையாகும்.
 - (4) வணிக வங்கிகள் வழங்கியுள்ள கடன்களையாகும்.
 - (5) மத்திய வங்கியினால் வைத்திருக்கப்படும் வெளிநாட்டு சொத்துக்களையாகும்.
29. வட்டி வீதத்திற்கும் பணத்திற்கான உத்தேச நோக்கக் கேள்விக்கும் இடையிலான தொடர்பை சிறப்பாக விளக்கும் கூற்றைத் தெரிவுசெய்க.
- (1) பணத்திற்கான உத்தேச நோக்கக் கேள்வி வட்டிவீதத்துடன் சுயாதீனமானது.
 - (2) பணத்திற்கான உத்தேச நோக்கக் கேள்வி வட்டிவீதத்துடன் நேரடியாக விகிதசமமாகத் தொடர்புபட்டுள்ளது.
 - (3) வட்டிவீதம் அதிகரிக்கும் போது பணத்திற்கான உத்தேச நோக்கக் கேள்வி அதிகரிக்கும்.
 - (4) வட்டிவீதம் அதிகரிக்கும் போது பணத்திற்கான உத்தேச நோக்கக் கேள்வி குறைவடையும்.
 - (5) வட்டிவீதம் உயர்மட்டத்தில் உள்ளபோது பணத்திற்கான உத்தேச நோக்கக் கேள்வி முடிவிலியாகும்.
30. 2023 ஆம் ஆண்டின் புதிய மத்திய வங்கிச் சட்டமானது இலங்கை மத்திய வங்கியை தடைசெய்திருப்பது
- (1) பணத்தை அச்சிடுவதிலிருந்தாகும்.
 - (2) நேரடியாகவும் மறைமுகமாகவும் அரசாங்கத்திற்கு கடன் வழங்குவதிலிருந்தாகும்.
 - (3) அரசாங்கத்தின் வங்கியாகத் தொழிற்படுவதிலிருந்தாகும்.
 - (4) ஒரு பணக்கொள்கைக் கருவியாக அதன் திறந்த சந்தை நடவடிக்கைகளை மேற்கொள்வதிலிருந்தாகும்.
 - (5) அந்நியச் செலாவணிச் சந்தையில் தலையீடு செய்வதிலிருந்தாகும்.
31. பொதுப் பொருள்கள் தொடர்பில் 'போட்டியில்லா நுகர்வு' என்பதன் கருத்து
- (1) மற்றவர்களுக்கு கிடைக்கும் அளவு குறையாமல் ஒரு நபரால் அப் பொருள் நுகரப்படமுடியும் என்பதாகும்.
 - (2) பணம் செலுத்தாத நபர்களுக்கு அப்பொருள் வழங்கப்பட முடியாது என்பதாகும்.
 - (3) பணம் செலுத்தாதோரை அப்பொருள் நுகர்விலிருந்து விலக்கிவைக்க முடியாது என்பதாகும்.
 - (4) ஒரு தனிநபரால் மேற்கொள்ளப்படும் பொதுப்பொருள் நுகர்வு ஏனையோருக்கு அப்பொருள் கிடைக்கும் அளவைக் குறைக்கும் என்பதாகும்.
 - (5) பணம் செலுத்தியோரால் மட்டுமே பொதுப் பொருள் நுகரப்பட முடியும் என்பதாகும்.
32. ஒரு குறைந்து செல்லும் வரிமுறையின் பிரதான பண்பாகக் குறிப்பிடப்படக்கூடியது
- (1) உயர் வருமானம் பெறுவோரை விட குறைந்த வருமானம் பெறுவோர் தமது வருமானத்தின் அதிக சதவீதத்தை வரி செலுத்துவர் என்பதாகும்.
 - (2) எல்லை வரி வீதம் சராசரி வரி வீதத்தை விட உயர்வாக இருக்கும் என்பதாகும்.
 - (3) வரிச் சேகரிப்புச் செலவு வரி வருமானத்தை விட உயர்வாக இருக்கும் என்பதாகும்.
 - (4) குறைந்த வருமானம் பெறுவோருடன் ஒப்பிடுமிடத்து உயர் வருமானம் பெறுவோரின் எல்லை வரி வீதம் அதிகமாக இருக்கும் என்பதாகும்.
 - (5) வருமானம் அதிகரிக்கும் போது வரி வீதம் அதிகரிக்கும் என்பதாகும்.

33. இறைக்கொள்கை மீது மாற்றல் செலுத்தல்களின் விளைவு பற்றிய மிகச் சரியான கூற்று எது?
- (1) மாற்றல் செலுத்தல்கள் அரசாங்கச் செலவீடுகளை அதிகரிப்பதன் மூலம் மொத்தக் கேள்வியை நேரடியாகப் பாதிக்கும்.
 - (2) மாற்றல் செலுத்தல்கள் அரசாங்க செலவீட்டின் ஒரு பகுதியல்லாத காரணத்தால் பாதிட்டுக் குறைநிலையைப் பாதிப்பதில்லை.
 - (3) மாற்றல் செலுத்தல்கள் பொருள்கள், சேவைகளின் உற்பத்திக்கு நேரடியாகப் பங்களிக்காமல் அரசாங்க செலவீட்டை அதிகரிக்கும்.
 - (4) முதலீட்டைத் தூண்டுவதன் மூலம் மாற்றல் செலுத்தல்கள் பொருளாதார வளர்ச்சியை ஊக்குவிக்கிறது.
 - (5) வீட்டுத் துறையின் செலவிடத்தக்க வருமானத்தைக் குறைப்பதன் மூலம் மாற்றல் செலுத்தல்கள் மொத்தக் கேள்வியில் செல்வாக்குச் செலுத்த முடியும்.
34. 2022 ஆம் ஆண்டின் பின்னர் இலங்கையில் வரி வருவாயின் குறிப்பிடத்தக்க அதிகரிப்பிற்கு பிரதான பங்களிப்புச் செய்தவை
- (1) வருமான வரிகள், இறக்குமதித் தீர்வைகள், பொருளாதார சேவைக் கட்டணம் என்பன ஆகும்.
 - (2) விசேட பண்டவரி, வருமான வரிகள், பெறுமதி சேர் வரி என்பன ஆகும்.
 - (3) வருமான வரிகள், பெறுமதி சேர் வரி, கலால் வரிகள் என்பன ஆகும்.
 - (4) வெளிநாட்டு வர்த்தகம் மீதான வரிகள், பெறுமதி சேர் வரி, விசேட பண்டவரி என்பன ஆகும்.
 - (5) துறைமுகங்கள் மற்றும் விமான நிலைய அபிவிருத்தி வரி, தேசத்தைக் கட்டியெழுப்பும் வரி, பெறுமதி சேர் வரி என்பன ஆகும்.
35. சர்வதேச நாணய நிதியத்தின் கடன் மீள்கட்டமைப்பு செயன்முறையில் 'கடன் பேண்தகுதன்மைப் பகுப்பாய்வு' (Debt Sustainability Analysis - DSA) என்பதனால் கருதப்படுவது என்ன?
- (1) கடனை மீள் செலுத்தலைத் தவிர்க்காமல் ஒரு நாடு தாங்கக்கூடிய கடன் அளவை நிர்ணயிக்கும் ஒரு ஆய்வாகும்.
 - (2) ஒரு நாடு அதன் நிகழ்கால வெளிநாட்டுக் கடன் கடப்பாடுகளைப் பூர்த்திசெய்யும் ஆற்றல் பற்றிய மதிப்பீடாகும்.
 - (3) தற்போது உள்ள கடன் மீது வட்டிச் செலுத்தல்களைக் குறைப்பதற்கான ஒரு முறையாகும்.
 - (4) நீண்ட காலத்தில் ஒரு நாடு அதன் கடன் சேவையை மேற்கொள்ளும் ஆற்றல் பற்றிய ஒரு பகுப்பாய்வாகும்.
 - (5) ஐந்து வருட காலப்பகுதிக்குள் எல்லா வெளிநின்ற கடன்களையும் முழுமையாக செலுத்தி முடிப்பது பற்றிய பகுப்பாய்வாகும்.
36. ஒரு நாடு ஒரு பொருளின் உற்பத்தியில் ஒப்பீட்டு நன்மைகளைக் கொண்டிருப்பது,
- (1) அப்பொருளை உற்பத்தி செய்ய அந்நாடு அதி குறைவான அமையச் செலவைக் கொண்டிருக்கும் போதாகும்.
 - (2) அந்நாடு ஏனைய நாடுகளை விட அப்பொருளை அதிகமாக உற்பத்தி செய்ய முடியும் போதாகும்.
 - (3) அப்பொருளை அதிக விலைக்கு விற்க முடியும் போதாகும்.
 - (4) அந்நாடு அப்பொருளை அதிக இலாப எல்லையுடன் உற்பத்தி செய்யும் போதாகும்.
 - (5) ஏனைய நாட்டுடன் ஒப்பிடுகையில் அந்நாட்டுக்கு குறைவான வளங்களைப் பயன்படுத்தி ஒரு பொருளை உற்பத்தி செய்ய முடியும் போதாகும்.
37. இறக்குமதி உள்ளீடுகளின் பெறுமதி ரூபா. 5 000 ஆகவும் முடிவுப் பொருளின் பெறுமதி ரூபா. 10 000 ஆகவும் உள்ள ஒரு உள்நாட்டுக் கைத்தொழிலைக் கருத்திற் கொள்க. முடிவுப் பொருள் மீது 25% தீர்வையும் இறக்குமதி உள்ளீடுகள் மீது 20% தீர்வையும் விதிக்கப்படுமாயின் பயனுறு பாதுகாப்பு வீதம் யாது?
- (1) 5%
 - (2) 15%
 - (3) 25%
 - (4) 30%
 - (5) 32.5%
38. இலங்கை கைச்சாத்திட்டுள்ள புத்தம் புதிய இருபக்க தாராள வர்த்தக உடன்படிக்கை யாது?
- (1) சிங்கப்பூர் - இலங்கை இடையிலான தாராள வர்த்தக உடன்படிக்கை
 - (2) சீனா - இலங்கை இடையிலான தாராள வர்த்தக உடன்படிக்கை
 - (3) இந்தியா - இலங்கை இடையிலான விரிவாக்கப்பட்ட பொருளாதார பங்காளர் உடன்படிக்கை
 - (4) வங்காளாதேசம் - இலங்கை இடையிலான தாராள வர்த்தக உடன்படிக்கை
 - (5) தாய்லாந்து - இலங்கை இடையிலான தாராள வர்த்தக உடன்படிக்கை

39. பின்வரும் அட்டவணை கருதுகோள் ரீதியான பொருளாதாரத்தின் சில சென்மதி நிலுவைத் தரவுகளைக் காட்டுகிறது.

வகை	பெறுமதி (பில்லியன் ரூபா)
வர்த்தக மீதி	120.1
சேவைகள் கணக்கு மீதி	29.3
முதலாந்தர வருமான மீதி	-25.8
இரண்டாந்தர வருமான மீதி	11.5
மூலதனக் கணக்கு மீதி	-35.1
நிதிக் கணக்கு மீதி	-112.6
தேறிய பிழைகளும் விடுபாடுகளும்	12.6

சென்மதி நிலுவையின் நடைமுறைக் கணக்கு மீதி யாது?

- (1) ரூபா 149.4 பில்லியன் (2) ரூபா 135.1 பில்லியன் (3) ரூபா 100 பில்லியன்
(4) ரூபா -12.6 பில்லியன் (5) ரூபா -135.1 பில்லியன்

40. பின்வரும் சந்தர்ப்பங்களில் எது மார்ஷல்-லேர்னர் நிபந்தனையைப் பூர்த்திசெய்கிறது?

- (1) ஏற்றுமதிக்கான விலைக்கேள்வி நெகிழ்ச்சி 0.5 ஆகவும் இறக்குமதிக்கான விலைக்கேள்வி நெகிழ்ச்சி 0.3 ஆகவும் உள்ளன.
(2) ஏற்றுமதிக்கான விலைக்கேள்வி நெகிழ்ச்சி 0.8 ஆகவும் இறக்குமதிக்கான விலைக்கேள்வி நெகிழ்ச்சி 0.6 ஆகவும் உள்ளன.
(3) ஏற்றுமதிக்கான விலைக்கேள்வி நெகிழ்ச்சி 0.2 ஆகவும் இறக்குமதிக்கான விலைக்கேள்வி நெகிழ்ச்சி 0.4 ஆகவும் உள்ளன.
(4) ஏற்றுமதிக்கான விலைக்கேள்வி நெகிழ்ச்சி 0.7 ஆகவும் இறக்குமதிக்கான விலைக்கேள்வி நெகிழ்ச்சி 0.2 ஆகவும் உள்ளன.
(5) ஏற்றுமதிக்கான விலைக்கேள்வி நெகிழ்ச்சி 0.8 ஆகவும் இறக்குமதிக்கான விலைக்கேள்வி நெகிழ்ச்சி 0.2 ஆகவும் உள்ளன.

41. ஒரு நாட்டின் மெய்ப் பயனுறுதிவாய்ந்த நாணயமாற்று வீதம் தேய்வடையுமாயின் அதன் மூலம் கருதப்படுவது

- (1) வெளிநாட்டுப் பொருள்களுடன் ஒப்பிடுமிடத்து நாட்டின் ஏற்றுமதிகள் சார்பளவில் மலிவாக மாறியுள்ளன என்பதாகும்.
(2) நாட்டின் பணவீக்க வீதம் குறிப்பிடத்தக்களவில் உயர்வடைந்துள்ளது என்பதாகும்.
(3) பணவீக்கம் மாறாநிலையில் இருக்கும்போது நாட்டின் பெயரளவு நாணயமாற்று வீதம் அதிகரித்துள்ளது என்பதாகும்.
(4) நாட்டின் நாணயமானது ஒரு கூடை ஏனைய நாணயங்களுக்கெதிராக பெறுமதி அதிகரித்துள்ளது என்பதாகும்.
(5) பெயரளவு நாணயமாற்று வீதம் மாறா நிலையில் உள்நாட்டு விலைகளில் ஓர் அதிகரிப்பு ஏற்பட்டுள்ளது என்பதாகும்.

42. மத்திய வங்கி புழக்கப் பணங்களின் பரிமாற்ற ஏற்பாடு (swap arrangement) என்றால் என்ன?

- (1) பொருட்களையும் சேவைகளையும் பரிமாறிக் கொள்வதற்காக மத்திய வங்கிகளுக்கு இடையிலான ஒரு ஏற்பாடாகும்.
(2) நாணயமாற்று வீதத்தை உறுதிப்படுத்த அல்லது திரவத்தன்மையை வழங்க நாணயங்களைப் பரிமாற்றிக்கொள்ள மத்திய வங்கிகளுக்கிடையில் மேற்கொள்ளப்படும் ஓர் இருபக்க உடன்படிக்கையாகும்.
(3) நாடுகளுக்கிடையில் வட்டிவீதத்தை ஒழுங்குறுத்துவதற்கான ஒரு பொறிமுறையாகும்.
(4) நாட்டின் பங்குச் சந்தையில் நேரடிச் செல்வாக்குச் செலுத்துவதற்கான ஒரு கருவியாகும்.
(5) வெளிநாட்டு நாணயத்திலான அரசு பிணையங்களை விற்பனை மற்றும் கொள்வனவு செய்வதற்காக மத்திய வங்கிகளுக்கிடையில் மேற்கொள்ளப்படும் ஒரு உடன்படிக்கையாகும்.

43. ஒரு நாட்டின் பொருளாதார வளர்ச்சி தேக்க நிலையில் இருந்தாலும் அந்நாட்டின் மனித அபிவிருத்திச் சுட்டியில் ஒரு முன்னேற்றத்தை பெரும்பாலும் ஏற்படுத்தவல்ல காரணி எது?

- (1) அதிகரித்த ஆயுள் எதிர்பார்க்கை
(2) குறைவடைந்த வருமானச் சமமின்மை
(3) முறைசாராப் பொருளாதாரத் துறையின் வளர்ச்சி
(4) சிறுவர் மரண வீதத்தில் வீழ்ச்சி
(5) தூய குடிநீரைப் பெறுவதற்கான வாய்ப்பில் அதிகரிப்பு

44. 'நடுத்தர வருமானப்பொறி' என்பதனால் கருதப்படும் சூழ்நிலை யாதெனில்
- (1) ஒரு நாடு வறுமை மற்றும் வேலையின்மையில் இருந்து விடுபடமுடியாத நிலையாகும்.
 - (2) ஒரு நாடு நடுத்தர வருமான நிலைக்கு நிலைமாரும் போது பணவீக்க அழுத்தங்களை எதிர்கொள்ளும் நிலையாகும்.
 - (3) ஒரு நாடு நடுத்தர வருமான மட்டத்தை அடைந்த பின்னர் உயர் வருமான மட்டத்தை அடைய முடியாமல் வளர்ச்சியடையப் போரடும் நிலையாகும்.
 - (4) பயிற்றப்பட்ட ஊழியர்களின் பற்றாக்குறையானது உயர்வருமான மட்டத்தை அடைவதில் தடையாக அமையும் நிலையாகும்.
 - (5) குறைந்த மட்டங்களிலான வெளிநாட்டு நேரடி முதலீடுகள் மற்றும் உயர் பணவீக்கம் காரணமாக பொருளாதார வளர்ச்சி மட்டுப்படுத்தப்படும் நிலையாகும்.

45. பின்வரும் அட்டவணை இரு காலப்பகுதிகளில் ஒரு நாட்டின் தெரிவுசெய்யப்பட்ட சில சமூக பொருளாதாரத் தரவுகளைக் காட்டுகிறது.

ஆண்டு	பெயரளவு மொத்த உள்நாட்டு உற்பத்தி (ரூபா பில்லியன்)	எழுத்தறிவு மட்டம் (%)	சனத்தொகையில் 1000 பேருக்கான மரணவீதம்	பொது விலை மட்டம்
2010	75	82	78	125
2020	120	97	52	150

2010 தொடக்கம் 2020 வரையான காலப்பகுதியில் இப்பொருளாதாரத்தின் சமூக பொருளாதார நிலை பற்றிய பின்வரும் கூற்றுகளுள் எது அட்டவணையில் காட்டப்பட்ட தரவுகளுடன் ஒத்திசைவாகிறது?

- (1) மெய் மொத்த உள்நாட்டு உற்பத்தியில் ஏற்படும் ஓர் அதிகரிப்பும் வாழ்க்கைத் தர முன்னேற்றமும்
 - (2) மெய் மொத்த உள்நாட்டு உற்பத்தியில் ஏற்படும் ஓர் அதிகரிப்பும் வாழ்க்கைத் தர வீழ்ச்சியும்
 - (3) மெய் மொத்த உள்நாட்டு உற்பத்தியில் ஏற்படும் ஒரு வீழ்ச்சியும் வாழ்க்கைத் தர வீழ்ச்சியும்
 - (4) மெய் மொத்த உள்நாட்டு உற்பத்தியில் ஏற்படும் ஒரு வீழ்ச்சியும் வாழ்க்கைத் தர முன்னேற்றமும்
 - (5) மெய் மொத்த உள்நாட்டு உற்பத்தியில் ஏற்படும் ஒரு வீழ்ச்சியும் மனித அபிவிருத்தியில் முன்னேற்றமும்
46. மூப்படைந்தோர் தங்கியிருத்தல் விகிதம் குறிப்பாகக் கருதுவது
- (1) தொழில்புரியும் வயதுக் குடித்தொகைக்கும் 65 வயது மற்றும் அதற்கு மேற்பட்ட நபர்களுக்கும் இடையிலான விகிதமாகும்.
 - (2) மொத்தக் குடித்தொகைக்கும் 60 வயது மற்றும் அதற்கு மேற்பட்ட நபர்களுக்கும் இடையிலான விகிதமாகும்.
 - (3) 15 - 59 வயதுக்கிடையிட்ட குடித்தொகைக்கும் 60 வயது மற்றும் அதற்கு மேற்பட்ட நபர்களுக்கும் இடையிலான விகிதமாகும்.
 - (4) வயது முதிர்ந்த குடித்தொகைக்கும் 0 - 14 வயதுக்கிடையிட்ட நபர்களுக்கும் இடையிலான விகிதமாகும்.
 - (5) மொத்தக் குடித்தொகைக்கும் 15 - 64 வயதுக்கிடையிட்ட நபர்களுக்கும் இடையிலான விகிதமாகும்.
47. பின்வரும் நாடுகளுள் எது பெரும்பாலும் உயர்ந்த கிணி குணகத்தைக் கொண்டிருக்கும்?
- (1) சகலருக்கும் இலவச கல்வி மற்றும் சுகாதார வசதிகளை வழங்கும் நாடு
 - (2) நேர்க்கணிய பொருளாதார வளர்ச்சியையும் குறைந்தளவு வேலையின்மையும் கொண்டுள்ள நாடு
 - (3) விருத்திமுறை வரிமுறையினையும் விரிவான மீள் பங்கீட்டுக் கொள்கைகளையும் கொண்டுள்ள நாடு
 - (4) அதிகுறைந்த 10% வருமானம் பெறுவோர் மொத்த வருமானத்தில் 9% இணைக் கொண்டுள்ள நாடு
 - (5) பாரியளவு முறைசாராத் துறையினையும் இழிவளவு சமூக பாதுகாப்பு வலைப்பின்னலையும் கொண்டுள்ள நாடு
48. இலங்கைப் பொருளாதாரத்திற்கு கொழும்பு துறைமுக நகர செயற்றிட்டத்தின் முக்கியத்துவம் யாது?
- (1) அது சர்வதேச முதலீட்டையும் வர்த்தகத்தையும் கவர்வதற்கான ஒரு பிரதான ஆரம்ப முயற்சியாகும்.
 - (2) கொள்கலன் கையாளும் நடவடிக்கைகளை மேற்கொள்ள கப்பல் முனையம் ஒன்றை நிர்மாணிப்பதை நோக்கமாகக் கொண்டுள்ளது.
 - (3) அது உள்நாட்டு உற்பத்தியை அதிகரிப்பதில் அதிக கவனம் செலுத்துகிறது.
 - (4) அது கொழும்பு நகரத்தில் தொழில்வாய்ப்புகளை உருவாக்குவதில் விசேட கவனஞ் செலுத்துகிறது.
 - (5) அது ஏனைய கைத்தொழில்களுக்கு மேலாக இலங்கையின் உல்லாசப் பயணத்துறையை விருத்தி செய்வதை முதன்மைப்படுத்துகிறது.

49. 2022 ம் ஆண்டில் இலங்கையின் பொருளாதார நெருக்கடி ஏற்பட பிரதான உடனடிக்காரணியாக அமைந்தது
- (1) புலம்பெயர் தொழிலாளர் பணவனுப்பல்களில் ஏற்பட்ட குறிப்பிட்டத்தக்களவு வீழ்ச்சி.
 - (2) இலங்கை ரூபாவில் ஏற்பட்ட மிகையான பெறுமதி அதிகரிப்பு.
 - (3) உலக எண்ணெய் விலைகளில் ஏற்பட்ட துரித அதிகரிப்பு.
 - (4) இரசாயனப் பசளை உற்பத்தியில் ஏற்பட்ட ஒரு வீழ்ச்சி.
 - (5) பேணமுடியாதளவு வெளிநாட்டுக்கடன் திரட்சியில் ஏற்பட்ட அதிகரிப்பு.
50. 2023 ம் ஆண்டில் சர்வதேச நாணய நிதியத்தின் இலங்கைக்கான விரிவாக்கப்பட்ட கடன் வசதி பிரதானமான இலக்காகக் கொண்டுள்ளமை
- (1) நாட்டின் பணவீக்கத்தை 5% சதவீதத்திற்குக் கீழாகக் குறைப்பதாகும்.
 - (2) பேரினப் பொருளாதார உறுதிப்பாட்டையும் கடன் பேண்தகு தன்மையையும் மீள ஏற்படுத்தல்.
 - (3) 2048 இல் இலங்கையை உயர் வருமானம் பெறும் நாடாக மாற்றியமைத்தல்.
 - (4) நிலையான நாணயமாற்று முறைமைக்கு உதவுதல்.
 - (5) அரசுக்கு சொந்தமான நிறுவனங்களை தனியார்மயப்படுத்தல்.

AL/2024/21/T-II

සියලු ම හිමිකම් ඇවිරිණි / முழுப் பதிப்புரிமையுடையது / All Rights Reserved

ශ්‍රී ලංකා විභාග දෙපාර්තමේන්තුව ශ්‍රී ලංකා විභාග දෙපාර්තමේන්තුව ශ්‍රී ලංකා විභාග දෙපාර්තමේන්තුව ශ්‍රී ලංකා විභාග දෙපාර්තමේන්තුව ශ්‍රී ලංකා විභාග දෙපාර්තමේන්තුව
 இலங்கைப் பரீட்சைத் திணைக்களம் இலங்கைப் பரීட்சைத் திணைக்களம் இலங்கைப் பரීட்சைத் திணைக்களம் இலங்கைப் பரීட்சைத் திணைக்களம் இலங்கைப் பரීட்சைத் திணைக்களம்
 Department of Examinations, Sri Lanka Department of Examinations, Sri Lanka Department of Examinations, Sri Lanka Department of Examinations, Sri Lanka Department of Examinations, Sri Lanka
 ශ්‍රී ලංකා විභාග දෙපාර්තමේන්තුව ශ්‍රී ලංකා විභාග දෙපාර්තමේන්තුව ශ්‍රී ලංකා විභාග දෙපාර්තමේන්තුව ශ්‍රී ලංකා විභාග දෙපාර්තමේන්තුව ශ්‍රී ලංකා විභාග දෙපාර්තමේන්තුව
 இலங்கைப் பரීட்சைத் திணைக்களம் இலங்கைப் பரීட்சைத் திணைக்களம் இலங்கைப் பரීட்சைத் திணைக்களம் இலங்கைப் பரීட்சைத் திணைக்களம் இலங்கைப் பரීட்சைத் திணைக்களம்
 Department of Examinations, Sri Lanka Department of Examinations, Sri Lanka Department of Examinations, Sri Lanka Department of Examinations, Sri Lanka Department of Examinations, Sri Lanka

අධ්‍යයන පොදු සහතික පත්‍ර (උසස් පෙළ) විභාගය, 2024
 கல்விப் பொதுத் தராதரப் பத்திர (உயர் தர)ப் பரீட்சை, 2024
 General Certificate of Education (Adv. Level) Examination, 2024

ආර්ථික විද්‍යාව II
 பொருளியல் II
 Economics II

21 T II

පැය තුනයි
 மூன்று மணித்தியாலம்
 Three hours

අමතර කියවීමේ කාලය - මිනිත්තු 10 යි
 மேலதிக வாசிப்பு நேரம் - 10 நிமிடங்கள்
 Additional Reading Time - 10 minutes

வினாப்பத்திரத்தை வாசித்து, வினாக்களைத் தெரிவுசெய்வதற்கும் விடை எழுதும்போது முன்னுரிமை வழங்கும் வினாக்களை ஒழுங்கமைத்துக் கொள்வதற்கும் மேலதிக வாசிப்பு நேரத்தைப் பயன்படுத்துக.

அறிவுறுத்தல்கள் :

- * உப பகுதி 'அ' இலிருந்து ஆகக்குறைந்தது இரண்டு வினாக்களையும் உப பகுதி 'ஆ' இலிருந்து ஆகக்குறைந்தது இரண்டு வினாக்களையும் தெரிவுசெய்து, ஐந்து வினாக்களுக்கு மாத்திரம் விடை எழுதுக.
- * வரைபுத்தாள் வழங்கப்படும்.

உப பகுதி 'அ'

(இப்பகுதியிலிருந்து ஆகக்குறைந்தது இரண்டு வினாக்களைத் தெரிவுசெய்க.)

1. (i) பொருளாதார வளங்களையும் இலவச வளங்களையும் வரைவிலக்கணப்படுத்தி ஒவ்வொன்றுக்கும் இவ்விரு உதாரணங்கள் வீதம் தருக. (04 புள்ளிகள்)
- (ii) 'உழைப்பிற்கும்' 'முயற்சியாண்மைக்கும்' இடையிலான பிரதான வேறுபாடுகளை விளக்குக. (03 புள்ளிகள்)
- (iii) உற்பத்தி இயல்தகவு வளையி ஒரு நேர்கோடாக அமைவது எத்தகைய நிபந்தனைகளின் கீழாகும்? (03 புள்ளிகள்)
- (iv) ஒரு கட்டளைப் பொருளாதார முறைமையிலும், ஒரு சந்தைப் பொருளாதார முறைமையிலும் அரசாங்கத்தின் பணியை ஒப்பிடுக. (04 புள்ளிகள்)
- (v) சந்தைப் பொருளாதார, கட்டளைப் பொருளாதார மற்றும் கலப்புப் பொருளாதார முறைமைகள் அருமை பற்றிய பிரச்சினையை எவ்வாறு தீர்க்கின்றன என்பதை விளக்கி இவ்வணுகுமுறைகளின் பயனுறுதன்மையை மதிப்பிடுக. (06 புள்ளிகள்)
2. (i) தனிநபர் கேள்வி வளையிகளிலிருந்து சந்தைக் கேள்வி வளையியைப் பெறும் விதத்தை வரைபடங்கள் மூலம் விளக்குக. (04 புள்ளிகள்)
- (ii) கேள்வியின் விலை நெகிழ்ச்சி என்பதால் கருதப்படுவதென்ன? மொத்த வருவாயில் அது எவ்வாறு செல்வாக்குச் செலுத்தும்? (03 புள்ளிகள்)
- (iii) ஒரு பொருளின் சந்தை நிரம்பல் வளையியில் செல்வாக்குச் செலுத்தவல்ல அரசாங்கத்தின் முன்று கொள்கைக் கருவிகளைக் குறிப்பிடுக. (03 புள்ளிகள்)
- (iv) சந்தைச் சமநிலை எண்ணக்கருவை வரைவிலக்கணம் செய்து சந்தைச் சமமின்மையிலிருந்து சந்தைச் சமநிலையை நோக்கி இட்டுச் செல்லும் சக்திகளை விளக்குக. (04 புள்ளிகள்)
- (v) (அ) நுகர்வோர் மிகையையும் உற்பத்தியாளன் மிகையையும் வரைவிலக்கணப்படுத்துக. (02 புள்ளிகள்)
 (ஆ) விலைக்கேள்வி நெகிழ்ச்சி நுகர்வோர் மிகையை எவ்வாறு பாதிக்கும் என்பதை வரைபடங்களைப் பயன்படுத்தி விளக்குக. (04 புள்ளிகள்)

3. (i) விசேட வரி ஒன்றிற்கும் பெறுமதி அடிப்படையிலான வரிக்கும் (ad-valorem tax) இடையிலான வேறுபாட்டைக் கூறுக. (02 புள்ளிகள்)
- (ii) தாராள சந்தையொன்றில் வரியொன்றின் மூலமும் மானியம் ஒன்றின் மூலமும் உருவாக்கப்படும் மீள முடியா இழப்பை (deadweight loss) வரைபடங்களைப் பயன்படுத்திக் காட்டுக. (04 புள்ளிகள்)
- (iii) உச்ச நிர்ணயமானது நுகர்வோர் மிகை, உற்பத்தியாளன் மிகை மற்றும் முழு பொருளாதார நலன் மீது ஏற்படுத்தும் தாக்கவிளைவைப் பகுப்பாய்வு செய்க. (06 புள்ளிகள்)
- (iv) பசும் பாலுக்கான சந்தைக் கேள்வித் தொழிற்பாடு $Q_D = 280 - 2P$ ஆகவும், சந்தை நிரம்பல் தொழிற்பாடு $Q_S = -220 + 3P$ ஆகவும் உள்ளதாகக் கொள்க. (தொகை மில்லியன் லீற்றரிலும் விலை ரூபாவிலும் தரப்பட்டுள்ளன.)
- (அ) சமநிலை விலையும் சமநிலைத் தொகையும் யாவை? (02 புள்ளிகள்)
- (ஆ) பாற்பண்ணையாளர் உற்பத்தி செய்யும் ஒவ்வொரு பால் லீற்றருக்கும் ரூபா. 10 மானியம் வழங்கப்படுவதாகக் கொள்க. புதிய சமநிலை விலை மற்றும் சமநிலைத் தொகை யாவை? (04 புள்ளிகள்)
- (இ) இந்நிலைமையின் கீழ் முழு மானியத்தின் அளவும் பாற்பண்ணையாளருக்குக் கிடைக்குமா? கிடைக்காதாயின், பாற்பண்ணையாளருக்கு உண்மையில் மொத்த மானியத்தில் கிடைக்கும் சதவீதம் யாது? (02 புள்ளிகள்)
4. (i) குறுங்கால உற்பத்தித் தொழிற்பாட்டு நிலைமையின் போது குறைந்து செல்லும் விளைவு விதியினை வரைவிலக்கணப்படுத்துக. (02 புள்ளிகள்)
- (ii) குறுங்கால உற்பத்தித் தொழிற்பாட்டில் ஒரு நிறுவனம் இலாப உச்சப்படுத்தல் வெளியீட்டு மட்டத்தை எவ்வாறு தீர்மானிக்கும்? (03 புள்ளிகள்)
- (iii) உற்பத்திக் காலப்பகுதி ஒன்றில், ஒரு நிறுவனம் ரூபா 200 000 மொத்த வருமானத்தைப் பெறும் அதேவேளை, அதன் வெளிப்படையான செலவுகள் (நேரடிச் செலவு) ரூபா 150 000 ஆகும். நிறுவன உரிமையாளரின் மூலதனம் மற்றும் உழைப்பின் அமையச் செலவு ஆகியவற்றை உள்ளடக்கிய உள்ளார்ந்த செலவுகள் ரூபா 70 000 ஆகும். நிறுவனத்தின் கணக்கியல் இலாபத்தையும் பொருளியல் இலாபத்தையும் கணிப்பிடுக. (04 புள்ளிகள்)
- (iv) மூலப்பொருள்களின் விலை அதிகரிப்பு போன்ற விடயத்தால் நிறுவனத்தின் செலவுக் கட்டமைப்பில் ஏற்படும் ஒரு பெயர்ச்சியானது நிறுவனத்தின் குறுங்கால நிரம்பல் வளையியையும் ஒட்டுமொத்த கைத்தொழிலின் நிரம்பல் வளையியையும் எவ்வாறு பாதிக்கும் என விளக்குக. உமது விளக்கத்திற்கு ஆதரவாக பொருத்தமான வரைபடங்களைப் பயன்படுத்துக. (05 புள்ளிகள்)
- (v) ஒரு நிறைபோட்டி நிறுவனமானது அதன் வெளியீட்டை அலகொன்று ரூபா 120 சந்தை விலையில் விற்பனை செய்கிறது. 60 அலகுகள் விற்பனை செய்யப்படும்போது நிறுவனத்தின் சராசரி நிலையான செலவு ரூபா 20 உம் சராசரி மாறும் செலவு ரூபா 80 உம் ஆகும்.
- (அ) இவ் வெளியீட்டு மட்டத்தில் நிறுவனத்தின் மொத்த வருவாய், மொத்த செலவு மற்றும் பொருளாதார இலாபம் அல்லது நட்டம் ஆகியவற்றைக் கணிப்பிடுக. (04 புள்ளிகள்)
- (ஆ) இவ்வெளியீட்டு மட்டத்தில் உற்பத்தியாளன் மிகையினைக் கணிப்பிடுக. (02 புள்ளிகள்)
5. (i) ஒரு திறந்த பொருளாதாரத்தின் வருமானச் சுற்றோட்ட மாதிரியில் வெளிப்பாய்ச்சல்களைப் பெயரிடுக. (03 புள்ளிகள்)
- (ii) தேசிய கணக்கீட்டு முறைமையில் உற்பத்தி வரம்பினுள் விலக்கப்பட்டுள்ள நடவடிக்கைகள் யாவை? (03 புள்ளிகள்)
- (iii) பின்வரும் கூற்றுக்கள் சரியானவையா பிழையானவையா எனக் கூறி உமது விடைக்கான காரணங்களை விளக்குக.
- (அ) வாழ்வாதாரத்திற்கான விவசாய நடவடிக்கைகள் போன்ற சுயநகர்வுக்கான பொருள் உற்பத்திகள் செய்வது உற்பத்தி வரம்பினுள் உள்ளடக்கப்படும்.
- (ஆ) 'ஏனைய உலக நாடுகள்' தேசிய கணக்கீட்டு முறைமையினுள் ஒரு நிறுவன அலகாகக் கருதப்படும்.
- (இ) வியாபார நிறுவனங்களால் செலுத்தப்படும் வாகன பதிவுக் கட்டணங்கள் 'உற்பத்தி மீதான ஏனைய வரிகளின்' ஒரு கூறாகும்.

- (ஈ) பண்டமாற்றுப் பரிமாற்றல்கள் (barter transaction) உற்பத்தி வரம்பில் உள்ளடக்கப்படுவதில்லை; ஏனெனில் அங்கு பணம் பரிமாறப்படுவதில்லை.
- (உ) 'உற்பத்திகள் மீதான வரிகள்' உற்பத்தி செய்யப்படும் பொருள் தொகையின் மீது நேரடியாக விதிக்கப்படும் வரிகளாகும்.

(01 × 5 = 05 புள்ளிகள்)

- (iv) சுயாதீன நுகர்வு ரூபா 200 பில்லியனாகவும், எல்லை நுகர்வு நாட்டம் செலவிடத்தக்க வருமானத்தின் 80% ஆகவும், முதலீடு ரூபா 500 பில்லியனாகவும் உள்ள ஒரு மூடப்பட்ட பொருளாதாரத்தைக் கருதுக. அத்துடன் அரசாங்க செலவீடுகள் ரூபா 300 பில்லியன் ஆகவும் தன்னிச்சையான வரிகள் ரூபா 200 பில்லியனாகவும் உள்ளன. இப்பொருளாதாரத்தின் சமநிலைத் தேசிய வருமான மட்டத்தைக் கணிப்பிடுக. (04 புள்ளிகள்)
- (v) (அ) 'சுருக்க இடைவெளியை' வரைவிலக்கணப்படுத்தி அதனை ஒரு மொத்தக் கேள்வி மொத்த நிரம்பல் மாதிரியில் காட்டுக. (03 புள்ளிகள்)
- (ஆ) சுருக்க இடைவெளியை அகற்றுவதன் மூலம் ஒரு பொருளாதாரத்தை நிறை தொழில் மட்டத்தை நோக்கிக் கொண்டு செல்ல எத்தகைய கொள்கைச் சிபாரிசுகளை நீர் பரிந்துரைப்பீர்? (02 புள்ளிகள்)

உப பகுதி - 'ஆ'

(இப்பகுதியிலிருந்து ஆகக்குறைந்தது இரண்டு வினாக்களைத் தெரிவுசெய்க.)

6. (i) இலங்கையின் பணக்கொள்கை தொடர்பில் பரவலாகக் கையாளப்பட்ட **மூன்று** பணக் கூட்டுகளைப் (money aggregates) பெயரிடுக. (03 புள்ளிகள்)
- (ii) 2022 செப்டெம்பரில் 70% அளவானதாக உச்ச மட்டத்தில் பதிவு செய்யப்பட்ட இலங்கை பணவீக்கத்தை 2023 முடிவில் தொடங்கி தனி இலக்கத்திற்கு மட்டுப்படுத்த பங்களித்துள்ள காரணிகள் யாவை? (04 புள்ளிகள்)
- (iii) பணக்கொள்கையை வகுப்பதில் கொள்கை வகுப்பாளர்கள் வெளிப்படைப் பணவீக்கத்தை விட அடிப்படைப் பணவீக்கத்தில் கவனம் செலுத்துவது ஏன் என விளக்குக. (04 புள்ளிகள்)
- (iv) நியதி ஒதுங்கு வீதத்தில் ஏற்படும் ஓர் அதிகரிப்பானது பண நிரம்பலின் மீதும் வங்கி முறைமை பணவாக்கம் செய்யும் ஆற்றலின் மீதும் ஏற்படுத்தும் விளைவு எவ்வாறிருக்கும்? (04 புள்ளிகள்)
- (v) வட்டி வீத சாளரம் என்னும் எண்ணக்கருவை விளக்கி இலங்கையின் பணக்கொள்கையில் அதன் பங்களிப்பைப் பகுப்பாய்வு செய்க. (05 புள்ளிகள்)
7. (i) 'பொதுச் சொத்து வளங்களை' வரைவிலக்கணப்படுத்தி, அவற்றைப் பொதுப் பொருள்களிலிருந்து வேறுபடுத்துக. (04 புள்ளிகள்)
- (ii) இலங்கைக்கு பல்பக்க கடன் வழங்கும் மூலாதாரங்கள் **மூன்றினைப்** பெயரிடுக. (03 புள்ளிகள்)
- (iii) சந்தைத் தோல்வியும், அரசாங்கத் தோல்வியும் ஒரு நாட்டின் வள ஒதுக்கீட்டின் விளைத்திறனின்மைக்கு எவ்வாறு இட்டுச் செல்லுமென விளக்குக. (05 புள்ளிகள்)
- (iv) பின்வரும் அட்டவணையானது 2022 ஆம் ஆண்டில் ஒரு கருதுகோள் ரீதியான பொருளாதாரத்தில் தெரிவுசெய்யப்பட்ட சில பொது நிதியியல் தரவுகளைக் காட்டுகிறது.

வகை	பெறுமதி (ரூபா பில்லியன்)	வகை	பெறுமதி (ரூபா பில்லியன்)
வரி அரசிறை	1 800	நடைமுறை மாற்றல்களும் மானியங்களும்	800
வரியல்லா அரசிறை	250	மூலதனச் செலவினம்	1 000
கொடைகள்	50	தேறிய கடன்வழங்கல்	200
பொருள்கள், சேவைகள் மீதான செலவினம்	1 200	கடன் தீர்ப்பனவுக் கொடுப்பனவுகள்	1 400
வட்டிக் கொடுப்பனவுகள்	1 500		

மேலுள்ள தகவல்களைப் பயன்படுத்தி அரசு பாதிடு தொடர்பில் பின்வருவனவற்றைக் கணிப்பிடுக.

(அ) நடைமுறைக் கணக்கு மீதி

(ஆ) முதலாந்தர மீதி

(இ) திரண்ட இறைமீதி

(ஈ) மொத்த நிதியியல் தேவைப்பாடுகள்

(02 × 4 = 08 புள்ளிகள்)

8. (i) நாடு A ஓரலகு உழைப்பைக் கொண்டு 10 அலகு புடைவைகளை அல்லது 5 சோடி சப்பாத்துக்களை உற்பத்தி செய்ய முடியும். அதேவேளை நாடு B ஓரலகு உழைப்பின் மூலம் 15 அலகு புடைவைகளை அல்லது 10 சோடி சப்பாத்துக்களை உற்பத்தி செய்ய முடியும் எனக் கருதுக.
- (அ) ஒவ்வொரு பொருள் உற்பத்தியிலும் எந்நாடு ஒப்பீட்டு நன்மையைக் கொண்டுள்ளது என்பதை விளக்குக. (04 புள்ளிகள்)
- (ஆ) பரஸ்பர நன்மை தரும் வர்த்தகம் இடம்பெற வேண்டுமாயின் புடைவை மற்றும் சப்பாத்து என்பவற்றிற்கிடையில் சாத்தியமான வர்த்தக மாற்றுவித வீச்சினை நிர்ணயிக்குக. (02 புள்ளிகள்)
- (ii) 1977 இன் பின்னர் இலங்கை தொடர்ச்சியாக எதிர்நோக்கும் வர்த்தகக் குறைநிலைக்கான பிரதான காரணங்கள் எவை? (04 புள்ளிகள்)
- (iii) உலக சந்தையில் இலங்கையின் ஏற்றுமதிப் போட்டித் தன்மையை மேம்படுத்த எத்தகைய நடவடிக்கைகளை மேற்கொள்ள முடியும்? (04 புள்ளிகள்)
- (iv) நாணயத்தின் வெளியகப் பெறுமதியின் ஒரு தேய்வுடன் தொடர்புடைய பிரதான பேரினப் பொருளாதார விளைவுகள் யாவை? (06 புள்ளிகள்)
9. (i) (அ) அபிவிருத்தியின் ஓர் அளவையாக தலைக்குரிய மொத்தத் தேசிய வருமானம் எவ்வாறு பயன்படுத்தப்படுகிறதென்பதை சுருக்கமாக விளக்குக. (02 புள்ளிகள்)
- (ஆ) அபிவிருத்தியின் ஓர் அளவை என்ற வகையில் அதன் வரையறைகள் யாவை? (03 புள்ளிகள்)
- (ii) அண்மைய ஆண்டுகளில் இலங்கையின் வறுமை மட்டத்தில் சடுதியான அதிகரிப்பு ஏற்பட்டமைக்கான பிரதான காரணங்களைக் கூறுக. (04 புள்ளிகள்)
- (iii) பலவீனமான ஆட்சிமுறைமையும் ஊழலும் பொருளாதார அபிவிருத்திச் செயன்முறையில் எவ்வாறு செல்வாக்குச் செலுத்தும்? (05 புள்ளிகள்)
- (iv) குடித்தொகை நிலைமாற்றங்கள் இலங்கையின் ஊழியச் சந்தையின் மீதும் பொது நிதியியல் மீதும் ஏற்படுத்திய சவால்கள் எவை? (06 புள்ளிகள்)
10. (i) தற்போது இலங்கை அனுபவித்துவரும் பொருளாதார நெருக்கடிக்கு பங்களிப்புச் செய்துள்ள பிரதான காரணிகளை சுருக்கமாகக் குறிப்பிடுக. (04 புள்ளிகள்)
- (ii) இலங்கையின் தற்போதைய பொருளாதார நெருக்கடி காலத்தில் அதற்கு உதவியாக சர்வதேச நிதி நிறுவனங்கள் ஆற்றும் பணி யாது? (04 புள்ளிகள்)
- (iii) அடுத்துவரும் ஐந்தாண்டு காலப்பகுதியில் பொருளாதார மீட்சியினையும் பேண்தகு வளர்ச்சியையும் அடைவதற்கு இலங்கை பதிலிறுக்க வேண்டியுள்ள பிரதான சவால்கள் யாவை? (06 புள்ளிகள்)
- (iv) டிஜிட்டல் உட்கட்டுமானங்களில் ஏற்படும் முன்னேற்றம் இலங்கையின் பொருளாதார வளர்ச்சி, பொருளாதார வினைத்திறன் மற்றும் சர்வதேச போட்டித் தன்மை ஆகியவற்றை எவ்வாறு ஊக்குவிக்கலாம்? (06 புள்ளிகள்)
